

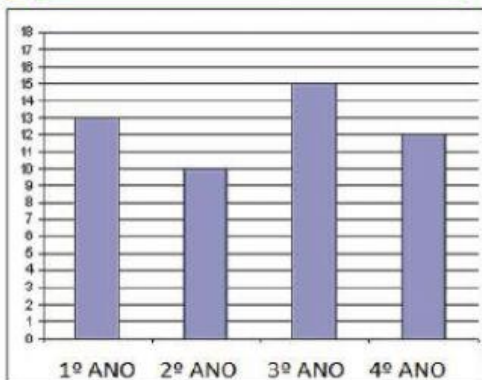
Nome: _____ Data: _____

Obs.: Escreva as respostas por extenso.

TRABALHANDO COM GRÁFICOS



Alunos matriculados em 2020



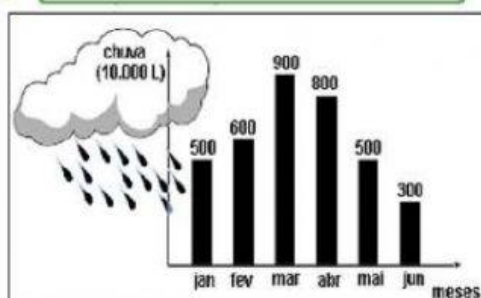
Que ano de escolaridade recebeu mais matrículas? _____

Que ano recebeu menos matrículas? _____

O 1º ano já tinha 10 alunos matriculados, com as novas matrículas terá _____ alunos no total.



Chuvas na cidade da Bahia



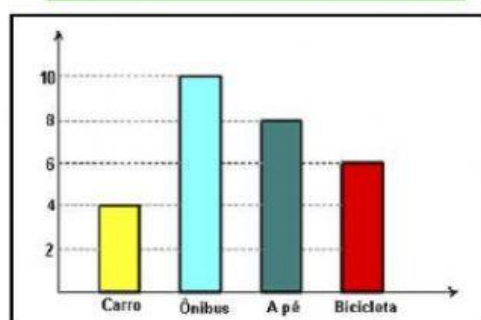
O mês com mais chuva foi _____

O mês com menos chuva foi _____

O mês que teve três vezes mais chuva que junho foi _____



Transporte utilizado pelos garis



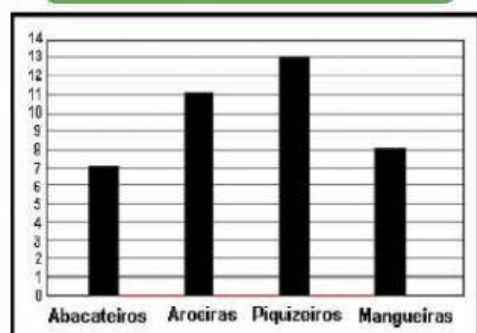
Qual o transporte menos utilizado pelos garis? _____

Foram entrevistados _____ garis no total.

Qual a diferença entre os que vão a pé e os que vão de carro? _____



Árvores plantadas no sítio



A árvore menos plantada foi _____

Quantos abacateiros deve-se plantar ainda para que ela seja a árvore mais plantada? _____

Se plantarmos o dobro de mangueiras, quantas serão? _____