



LEMBAR KERJA PESERTA DIDIK

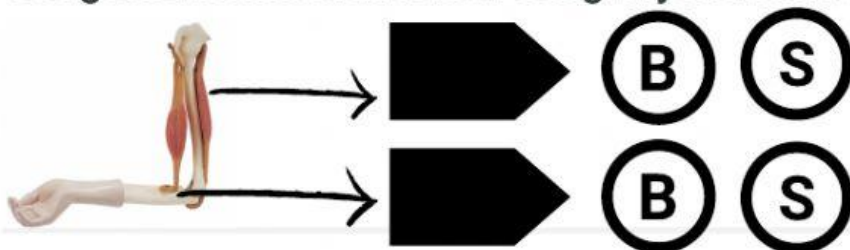
TEMA 1 SUBTEMA 1

NAMA

NO. URUT

KERJAKAN SESUAI DENGAN PERINTAH SOALNYA YA!

Dengarkan kemudian isikan dengan jawaban benar atau salah !



Jodohkan hewan di bawah ini sesuai dengan alat geraknya !



otot perut



sayap



kaki



sirip

Jawablah dengan mengetik "vertebrata/avertebrata" sesuai dengan deskripsi yang diberikan !

ikan
sapi
kucing
kelinci
termasuk hewan....

siput
semut
cacing
kupu-kupu
termasuk hewan....



Pilihlah jawaban yang paling tepat !

Ide pokok teks biasanya dapat ditemukan dalam kalimat....

- a. pendukung
- b. pertanyaan
- c. penjelas
- d. utama

Sebuah paragraf terdiri atas kalimat utama dan kalimat....

- a. pokok
- b. tanya
- c. penjelas
- d. ide pokok

**Bacalah paragraf di bawah ini, kemudian carilah ide pokoknya!
Jawablah dengan mengetikkan angkanya saja!**

BUNGLON

Bunglon adalah hewan reptil sejenis kadal kecil yang biasa hidup di pohon.

Bunglon jantan biasanya mempunyai tanduk, sirip, dan gelambir leher.

Bunglon mempunyai kemampuan untuk mengubah warna kulitnya. Bunglon tidak bisa berubah kulit ke semua warna, hanya ke warna warna tertentu saja.

Ide pokok paragraf pertama terdapat pada kalimat ke


Ide pokok paragraf ke dua terdapat pada kalimat ke



Pilihlah jawaban yang paling tepat !


Hari senin, 16 Juli 2018 hari pertama Siti masuk sekolah. Pada hari pertama, kelas Siti melakukan pemilihan ketua kelas. Kegiatan pemilihan ketua kelas merupakan cerminan dari sila ... *

- ☐ Pertama
- ☐ Kedua
- ☐ Ketiga
- ☐ Keempat



Salah satu contoh pengamalan sila ketiga dilingkungan sekolah yaitu ... *

- ☐ Melakukan pemilihan ketua kelas
- ☐ Melaksanakan piket kelas sesuai jadwalnya
- ☐ Melakukan pemilihan kepala sekolah
- ☐ Merayakan ulangtahun di kelas



Kegiatan dimasyarakat yang mencerminkan sila-sila Pancasila yaitu, kecuali ... *

- ☐ Beriman kepada Tuhan Yang Maha Esa sesuai dengan kepercayaan masing-masing
- ☐ Melakukan kerjabakti dilingkungan tempat tinggal
- ☐ Hanya berdiri ketika mengikuti kerja bakti
- ☐ Memberikan bantuan kepada korban bencana

Pindahkan keterangan nama gambar ke kotak berwarna ungu sesuai pada jenis gambar ilustrasi di bawah ini!


**GAMBAR
REALIS**

KARTUN

KARIKATUR

**GAMBAR
DEKORATIF**

SELAMAT JALAN
PAK HABIBIE



Simaklah video di bawah ini untuk menjawab pertanyaan yang disediakan !



Letak astronomis Indonesia berada pada

- a. 6° LU sampai 11° LS dan 95° BT sampai 141° BT
- b. 11° LU sampai 6° LS dan 145° BT sampai 191° BT
- c. 95° LU sampai 141° LS dan 6° BT sampai 11° BT
- d. 6° LU sampai 11° LS dan 41° BT sampai 45° BT

Indonesia terletak di antara samudra dan

- a. Atlantik dan Artik
- b. Pasifik dan Atlantik
- c. Hindia dan Atlantik
- d. Pasifik dan Hindia

Gunung Kerinci dan Gunung Sinabung terdapat di pulau

- a. Jawa
- b. Kalimantan
- c. Irian
- d. Sumatra