

QUIZ DE CIENCIAS NATURALES 1° TERCER PERIODO

1. Escribe debajo de cada imagen si pertenece al estado: solido, liquido o gaseoso



2. Lee con atención y une las características con cada uno de los estados de la materia

SÓLIDO

LÍQUIDO













GASEOSO

No tiene forma propia.
No tiene volumen fijo.

Tiene forma y volumen fijos.

No tiene forma propia.
Su volumen es fijo, pero se adapta
al recipiente que lo contiene.

3. Clasifica los animales según su hábitat

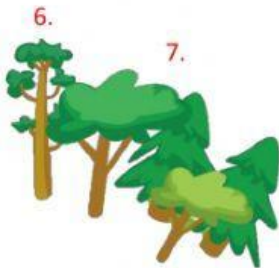
TERRESTRE	ACUÁTICOS	AÉREOS
		
		
		
		



4. Selecciona los componentes vivos que existen en el hábitat



5. Selecciona los elementos no vivos que componen el hábitat



6.

7.