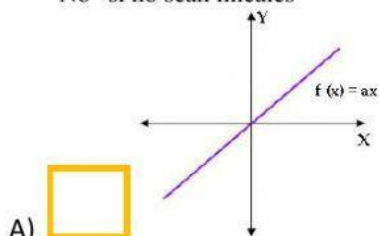


Control N° 1 8° Básico

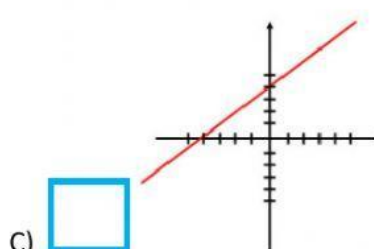
Nombre: _____ Curso: 8° ____

En cada uno de los cuadrados **escriban** lo que corresponda según la pregunta.

- 1) Escriba en el espacio vacío (lado izquierdo), “Si” si se trata de una función lineal y “No” si no sean lineales

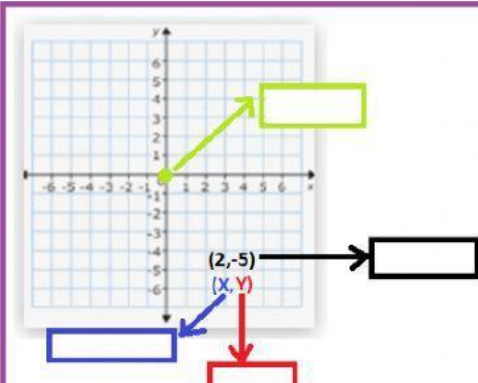


B) ☐ $y = 5x$



D) ☐ $y = 2x - 3$

- 2) **Traslade** los conceptos a la ubicación que corresponda dentro del dibujo.



Plano Cartesiano
Abscisa
Ordenada
Par Ordenado
Origen

Traslade la solución, según corresponda

- 3) Se definen las funciones en cada tabla, en cada espacio debe **trasladar la solución** al espacio que corresponda, cada tabla reemplazando el valor de x

x	$f(x) = 2x$
-2	
0	
4	

Soluciones
0
-4
8

4) **Traslade la solución de cada ecuación**

$$y - 5 = 19$$

$$y = \boxed{}$$

$$3z + 20 = 32$$

$$z = \boxed{}$$

$$4C = 36$$

$$C = \boxed{}$$

Soluciones

4

9

24