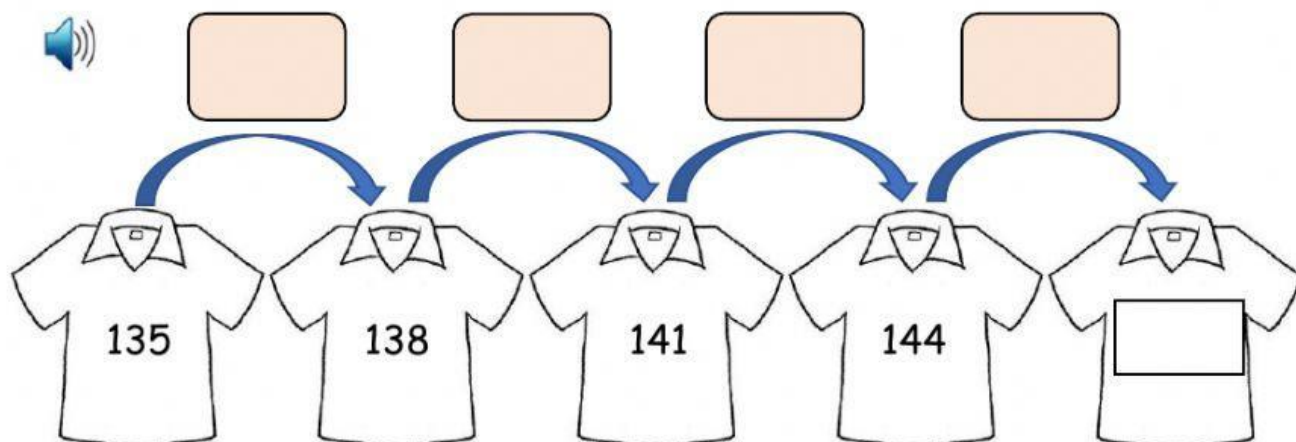


RECORDEMOS PATRONES Y SECUENCIAS

1. Completa el número de la camiseta, identificando el patrón.



El patrón es

2. Lee lo que piensa la profesora y responde:



Estoy pensando en una secuencia de 10 números.
El primer número es 35 y el **patrón es sumar 5**.
¿Cuáles son los tres últimos números?

--	--	--	--	--	--	--	--	--	--

Respuesta: Los tres últimos números son:

	,		y	
--	---	--	---	--

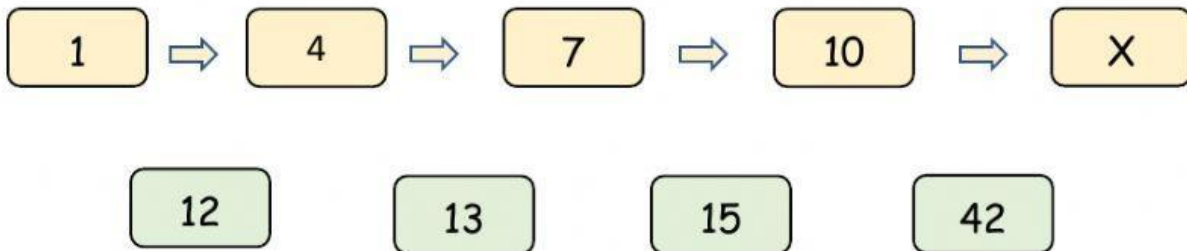


Estoy pensando en una secuencia de 10 números.
El **patrón es sumar 2** y el último número es 20.
¿Cuáles son el primer y el quinto número?

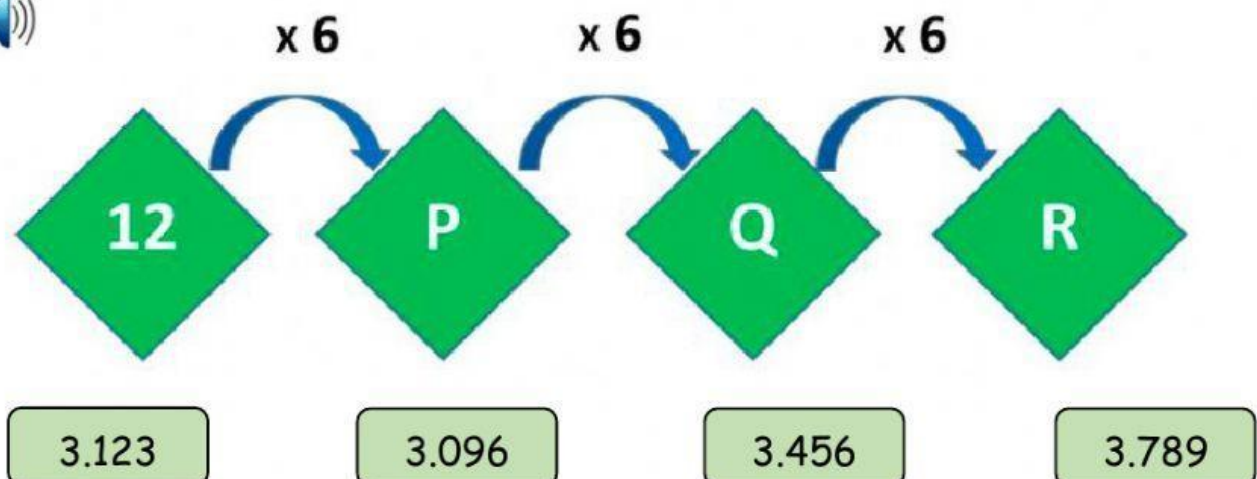
--	--	--	--	--	--	--	--	--	--

Respuesta: El primer número y el quinto es

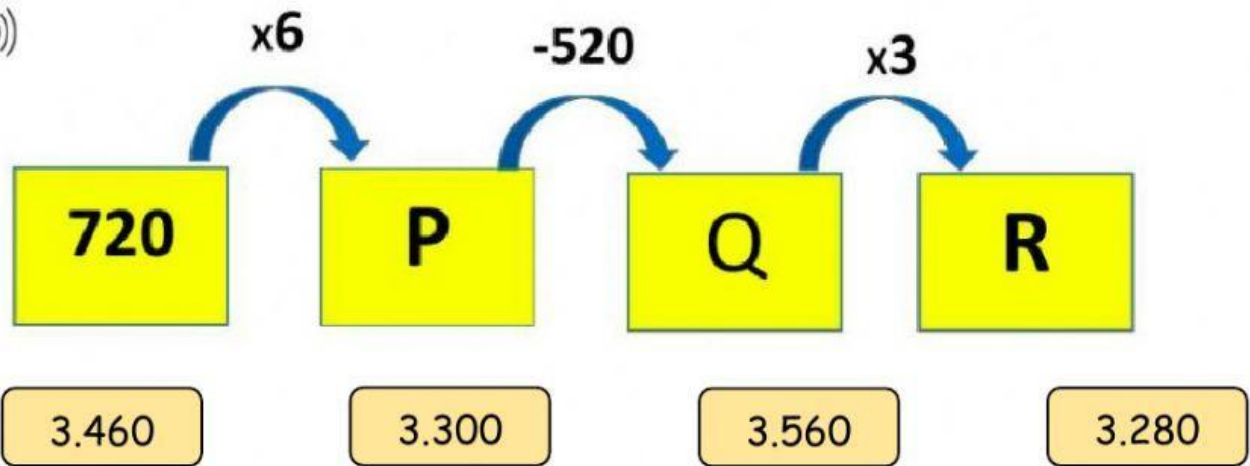
3. Observa la siguiente secuencia, descubre el patrón de formación y calcula el número que falta.



4. Observa la siguiente secuencia y determina el valor de: "P + Q + R"



5. Observa la siguiente secuencia y determina el valor de " $R - (P + Q)$ "



6. Observa la siguiente secuencia y determina el valor de C.

