

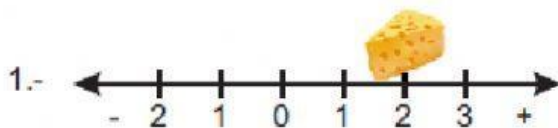


Marcos de referencia

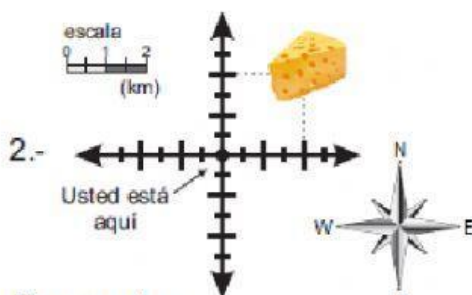


Observa cada imagen y responde la pregunta del ratón:

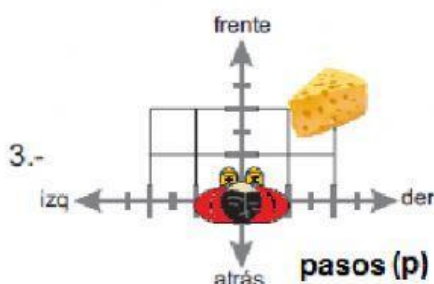
¿Donde está mi queso?



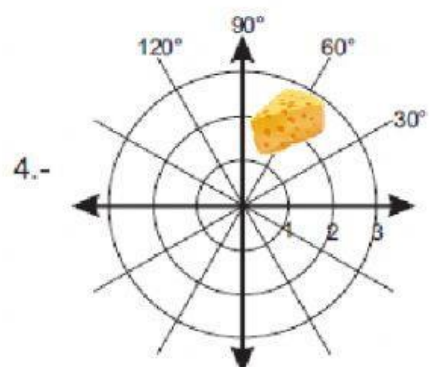
Respuesta:



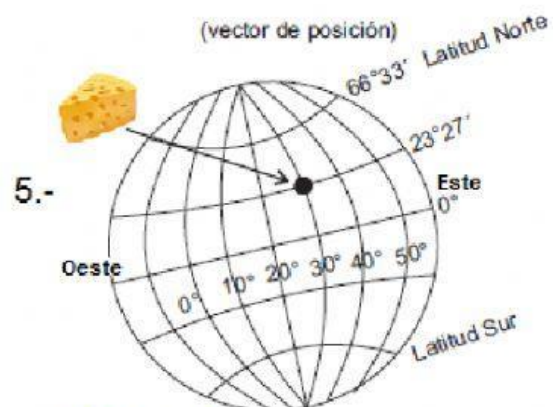
Respuesta:
(km , km)



Respuesta:
(p , p)



Respuesta: (m, °)

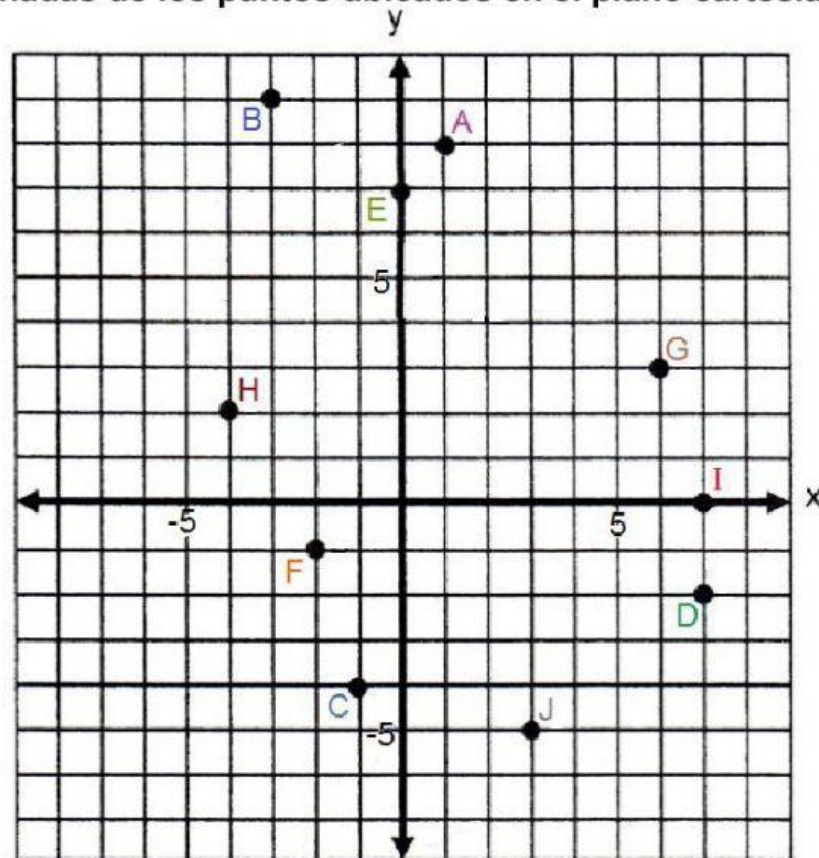


Respuesta:

(° latitud , ° longitud)

Escribe las coordenadas de los puntos ubicados en el plano cartesiano.

A (,)
 B (,)
 C (,)
 D (,)
 E (,)
 F (,)
 G (,)
 H (,)
 I (,)
 J (,)



Escribe las coordenadas polares de los siguientes puntos.

A (,)
 B (,)
 C (,)
 D (,)
 E (,)
 F (,)
 G (,)
 H (,)
 I (,)
 J (,)

