

# LEMBAR KERJA PESERTA DIDIK (LKPD)

## POLA BARISAN KONFIGURASI OBJEK

By Dwi Setiawan, S.Pd.

Nama :

Kelas :













### Petunjuk pengerjaan!

1. Pasangkanlah pertanyaan dan jawabannya dengan cara menarik garis sesuai antara bagian yang di sebelah kiri dengan sebelah kanan!



2. Setelah seluruh soal/pertanyaan selesai diisi, klik "Finish!" yang tertera pada bagian bawah lembar kerja!

A. Pasangkanlah bentuk pola berikut dengan nama barisan bilangannya dengan cara menarik garis dari pola ke nama barisannya!


 	 Barisan Bilangan Persegi
 	 Barisan Bilangan Segitiga
 	 Barisan Bilangan Genap
 	 Barisan Bilangan Ganjil
 	 Barisan Bilangan Persegi Panjang

B. Pilihlah jawaban yang paling tepat!

1. Perhatikan pola susunan lingkaran berikut!




Susunan lingkaran pada pola berikutnya adalah . . . .




2. Perhatikan susunan bola berikut!



Pola ke-1



Pola ke-2



Pola ke-3

Banyak bola pada pola ke-5 adalah . . . .

a. 13

b. 15

c. 17

d. 18