

LKPD PENYAKIT TULANG DAN OTOT MANUSIA






NAMA SISWA :

tanggal:

Kelas :

Gangguan pada sistem gerak, upaya Pencegahan dan upaya menjaga kesehatan sistem gerak

A. Pasangkanlah dengan menarik garis yang sesuai dengan gambar dibawah ini

				
FRAKTURA	LORDOSIS	SKOLIOSIS	KIFOSIS	Osteoporosi

B. Isilah soal dibawah ini ,dan pilihlah jawaban yang sudah tersedia dengan cara memindahkan atau menempelkan kotak hijau kedalam kotak kuning

SOAL

1. *Persendian meradang hingga bernanah dan terinfeksi.....*

2. *Kelumpuhan persendian karena persendiannya seolah olah menyatu...*

3. *Pergeseran posisi ligamen tetapi sendinya tetap pada posisi.....*

4. *kejang otot akibat cuaca dingin atau beban yang terlalu berat...*

5. *Otot terasa tegang atau berkontraksi terusMenerus Disebabkan oleh bakteri clostridium tetani..*

6. *Otot membesar secara berlebihan...*

PILIH JAWABANNYA DISINI



KERAM

TERKILIR

ARTRITIS eKSUDATIF

ANKILOISIS

TETANUS

HIPERTROPI

<https://youtu.be/cATEQ0fUbQg>