


























Responde las siguientes preguntas con los datos del pictograma:

Ten en cuenta que cada  representa 2 vuelos.

Vuelos fijos semanales según destino	
Bogotá	      
Cali	  
Medellín	     
Manizales	    
Santa Marta	   

a) ¿Cuántos vuelos semanalmente llegan a Medellín?

b) ¿Cuántos vuelos semanalmente van hacia Cali?

c) ¿A qué ciudad se hicieron más vuelos? \_\_\_\_\_

d) ¿Cuántos vuelos tienen por destino Santa Marta?

e) ¿A qué ciudad se hicieron más de 10 vuelos y menos de 14?

\_\_\_\_\_

f) Ordena las ciudades escribiéndolas de menor a mayor, según los vuelos fijos semanales.

\_\_\_\_\_, \_\_\_\_\_, \_\_\_\_\_, \_\_\_\_\_,

\_\_\_\_\_.