

LEMBAR KERJA PESERTA DIDIK




SATUAN PENDIDIKAN : SMAN 3 SAMARINDA

SEMESTER : 1 (GANJIL)



KELAS : X

Gambar tokoh geografi pada kotak dibawah ini masih acak, aturlah gambar sesuai dengan tahapan perkembanganya!

Tokoh Geografi Klasik	GESER KE SINI
Tokoh Geografi Abad Pertengahan & Renaissance	GESER KE SINI
Tokoh Geografi Modern	GESER KE SINI



Tokoh Geografi Akhir Abad XIX	GESER KE SINI
Tokoh Geografi Mutakhir	GESER KE SINI



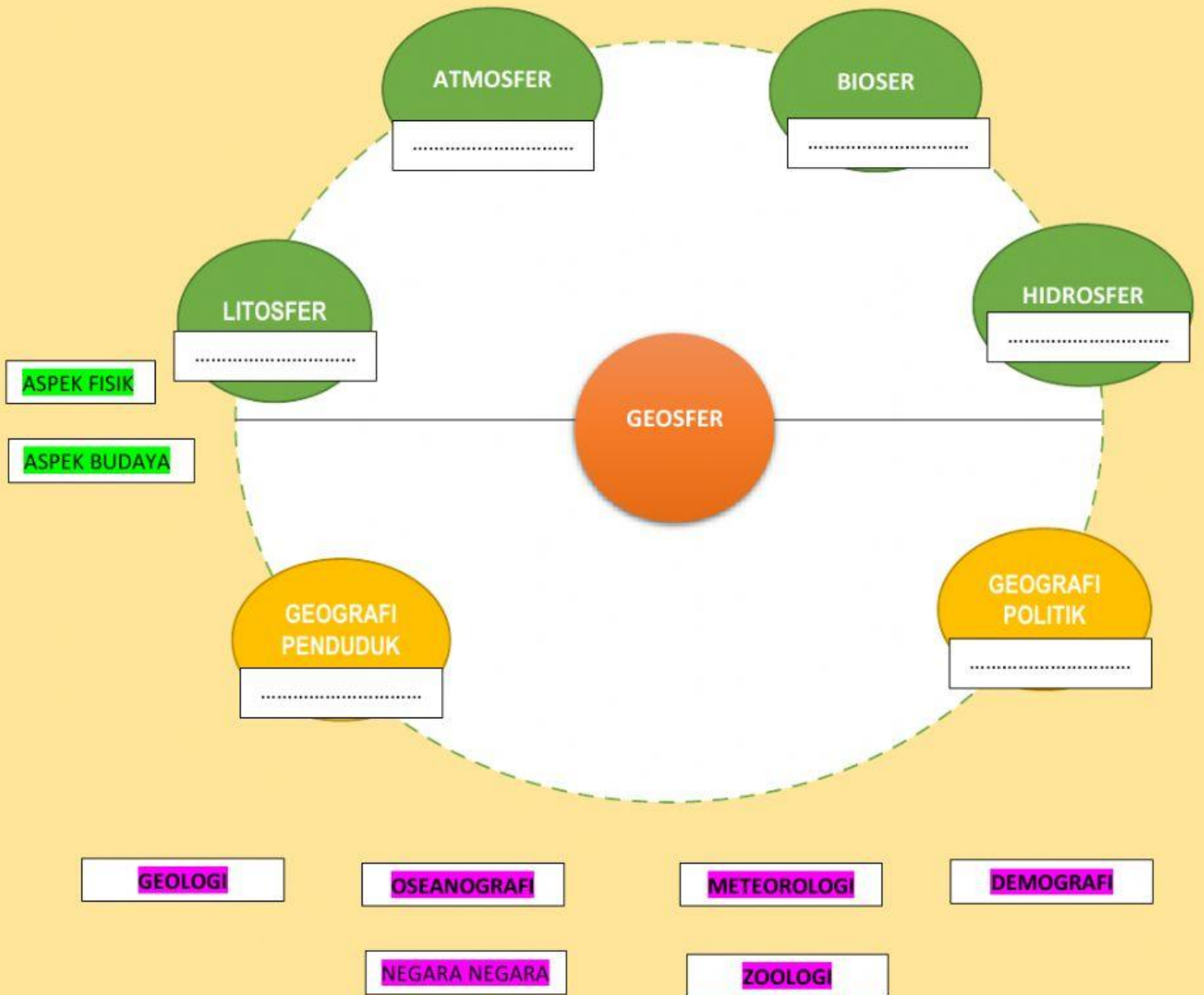
Geser gambar tokoh sesuai aliran / pendapat yang dicetuskan

<p>Ilmuwan Yunani pencetus istilah geografi. Beliau mengatakan geografi adalah ilmu pengetahuan yang menggambarkan keadaan bumi</p> <p>.....</p>		 <p>Klaudius Ptolemaeus - ...</p>
<p>Tokoh geografi yang menyatakan bahwa geografi adalah suatu penyajian melalui peta dari sebagian dan seluruh permukaan bumi.</p> <p>.....</p>		 <p>Eratosthenes</p>
<p>Tokoh aliran fisis determinisme</p> <p>.....</p>		 <p>Vidal de la Blache - Geogr... geography.ruhosting.nl</p>
<p>Tokoh aliran Possibilisme</p> <p>.....</p>		 <p>Carl Ritter, German geo... sciencephoto.com</p>

Pasangkanlah Pernyataan dan Konsep Geografi Pada Tabel Berikut

NO	PERNYATAAN	KONSEP
1	Jarak antara SMAN 3 Samarinda dengan Rumah Makan Bento 386,7 meter.	A. LOKASI ABSOLUT
2	Perbatasan Kalimantan Timur dan Malaysia topografinya berupa pegunungan.	B. LOKASI RELATIF
3	Indonesia terletak antara 6° LU sampai 11° LS dan 95° BT sampai 141° BT.	C. JARAK ABSOLUT
4	Kalimantan Timur terletak diselatan Kalimantan Utara.	D. KETERKAITAN KERUANGAN
5	Melak lebih mudah dijangkau dengan moda transportasi sungai.	E. MORFOLOGI
6	Pemukiman penduduk mengelompok disekitar pabrik.	F. POLA
7	Perum Bengkuring sering dilanda banjir jika debit air di Bendungan Benanga melampaui ambang batas.	G. KETERJANGKAUAN
8	Masyarakat di daerah pegunungan cenderung menggunakan pakaian yang tebal, sedangkan masyarakat pesisir pantai lebih sering menggunakan pakaian yang tipis.	H. AGLOMERASI
9	Dataran aluvial dimanfaatkan untuk daerah pertanian karena tanahnya subur.	I. INTERAKSI
10	Pasar di kota membutuhkan pasokan bahan mentah seperti sayuran dan buah-buahan dari desa.	J. NILAI KEGUNAAN
		K. DIFERENSIASI AREA

**PASANGKAN DATA SUB OBJEK MATERIAL (BAWAH) KE-DALAM KOLOM
OBJEK MATERIAL GEOGRAFI (ATAS) DENGAN BENAR!**



TENTUKAN BENAR ATAU SALAH PERNYATAAN BERIKUT!

NO	PERNYATAAN	BENAR	SALAH
1.	Aspek topologi adalah aspek yang berkaitan dengan bentuk muka bumi, letak sutua wilayah, luas dan batas-batas wilayah yang mempunyai ciri khas tertentu.		
2.	Aspek biotik adalah aspek yang berkaitan dengan unsur kondisi tanah, hidrologi, iklim dari suatu wilayah		
3.	Aspek abiotik adalah aspek yang berkaitan dengan unsur tumbuhan, hewan dan manusia (penduduk).		
4.	Aspek sosial adalah aspek yang berkaitan dengan unsur tradisi, adat- istiadat, komunitas, kelompok masyarakat dan lembaga-lembaga sosial.		
5.	Objek formal geografi menitik beratkan pada pendekatan (cara/sudut pandang) yang digunakan dalam memahami objek material		
6.	Aspek budaya meliputi pertanian, perkebunan, pertambangan, industri, perdagangan, transportasi, pasar dan kegiatan ekonomi lainnya.		
7.	Aspek ekonomi adalah adalah aspek yang berkaitan dengan unsur pendidikan, agama, bahasa dan kesenian, sedangkan aspek politik berkaitan dengan unsur pemerintahan yang terjadi dalam kehidupan masyarakat		
8.	How (bagaimana), merupakan pertanyaan untuk mengetahui proses terjadinya fenomena alam.		
9.	Why (mengapa), merupakan pertanyaan untuk mengetahui penyebab terjadinya fenomena alam.		
10.	When (kapan), merupakan pertanyaan untuk mengetahui waktu terjadinya fenomena alam.		