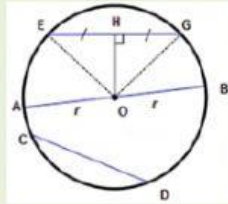


LEMBAR KERJA PESERTA DIDIK KELAS VI C

NAMA/NO :

PILIH LAH JAWABAN YANG PALING TEPAT

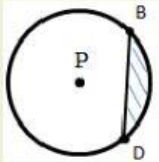
1. Perhatikan gambar berikut!



Berikut ini yang merupakan busur lingkaran adalah

- A. $\overset{\frown}{EG}$ B. \overline{AO} C. $\overset{\frown}{OH}$ D. \overline{AO}

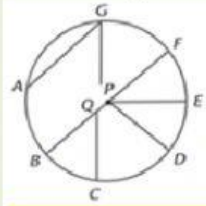
2. Perhatikan gambar berikut!



Daerah yang diarsir disebut

- A. busur B. juring C, tali busur D. tembereng

3. Perhatikan gambar berikut!



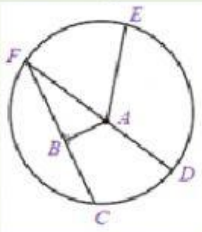
Berikut ini yang merupakan jari-jari lingkaran adalah

- A. GP B, QB C. QP D. PE

4. Pernyataan berikut yang benar adalah

- A. tali busur boleh disebut diameter
B. titik pusat pada lingkaran lebih dari satu
C. jarak titik pusat ke semua titik lingkaran berbeda
D. panjang jari jari adalah setengah panjang diameter

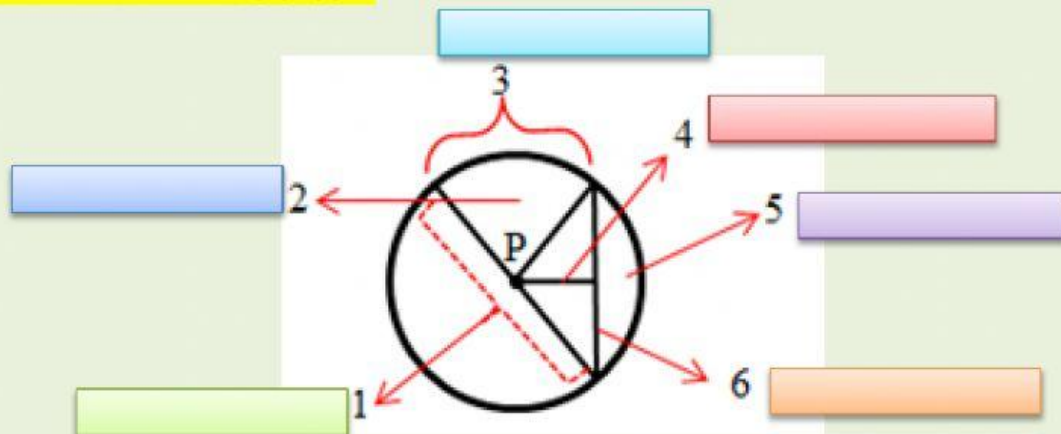
5. Perhatikan gambar berikut!



Berikut ini yang merupakan juring lingkaran diatas adalah

- A. ADE C. ABF
B. CFD D. ACD

PILIH LAH NAMAYANG SESUAI



AYOOO MENYELESAIKAN MASALAH

1. Robi memiliki topi yang alasnya berbentuk lingkaran. Dia akan menghias tepi alasnya dengan rantai manik-manik. Dia mengetahui ukuran diameter lingkaran topinya adalah 14 cm. Berapakah panjang rantai manik-manik yang dia butuhkan?

2. Dita akan membuat hiasan untuk memperingati HUT RI. Dita membuat dari tampah bambu yang tepinya akan dikelilingi dengan lampu warna warna. Untuk melapisi tepian tampah, Dita memiliki lampu warna warna 10 meter dan diameter tampah 50 cm. Berapa banyak tampah yang dapat dilapisi lampu tersebut?



