



PENJUMLAHAN

Berapa Hasilnya?









Hitung hasil penjumlahan dan tuliskan angkanya pada kotak yang tersedia



nama: _____ kelas: _____ no: _____

kd 3.3

hitung dan tuliskan angka dengan cara menarik
angka pada kotak yang sudah disediakan!

	<input type="text"/>		<input type="text"/>
	<input type="text"/>		<input type="text"/>
	<input type="text"/>		<input type="text"/>
	<input type="text"/>		<input type="text"/>

3	8	5	2
7	4	1	6

