

LEMBAR KERJA PESERTA DIDIK


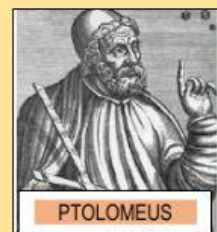

SATUAN PENDIDIKAN : SMAN 3 SAMARINDA

SEMESTER : 1 (GANJIL)



KELAS : X

Gambar tokoh geografi pada kotak dibawah ini masih acak, aturlah gambar sesuai dengan tahapan perkembanganya!

Tokoh Geografi Klasik	GESER KE SINI
Tokoh Geografi Abad Pertengahan & Renaissance	GESER KE SINI
Tokoh Geografi Modern	GESER KE SINI



Tokoh Geografi Akhir Abad XIX	GESER KE SINI
Tokoh Geografi Mutakhir	GESER KE SINI



Geser gambar tokoh sesuai pendapat/aliran yang dicetuskan		
<p>Ilmuwan Yunani pencetus istilah geografi. Beliau mengatakan geografi adalah ilmu pengetahuan yang menggambarkan keadaan bumi</p> <p>.....</p>		 <p>Klaudius Ptolemaeus - ...</p>
<p>Tokoh geografi yang menyatakan bahwa geografi adalah suatu penyajian melalui peta dari sebagian dan seluruh permukaan bumi.</p> <p>.....</p>		 <p>Eratosthenes</p>
<p>Tokoh aliran fisis determinisme</p> <p>.....</p>		 <p>Vidal de la Blache - Geogr... geography.ruhosting.nl</p>
<p>Tokoh aliran Possibilisme</p> <p>.....</p>		 <p>Carl Ritter, German geo... sciencephoto.com</p>

Pasangkanlah Pernyataan Dan Konsep Geografi Pada Tabel Berikut

NO	PERNYATAAN	KONSEP
1	Jarak antara SMAN 3 Samarinda dengan Rumah Makan Bento 386,7 meter	A. LOKASI ABSOLUT
2	Perbatasan Kalimantan Timur dan Malaysia topografinya berupa pegunungan	B. LOKASI RELATIF
3	Indonesia terletak antara 6° LU sampai 11° LS dan 95° BT sampai 141° BT	C. JARAK ABSOLUT
4	Kalimantan Timur terletak diselatan Kalimantan Utara	D. KETERKAITAN KERUANGAN
5	Melak lebih mudah dijangkau dengan moda transportasi sungai	E. MORFOLOGI
6	Pemukiman penduduk mengelompok disekitar pabrik.	F. POLA
7	Perum Bengkuring sering dilanda banjir jika debit air di Bendungan Benanga melampaui ambang batas.	G. KETERJANGKAUAN
8	Masyarakat di daerah pegunungan cenderung menggunakan pakaian yang tebal, sedangkan masyarakat pesisir pantai lebih sering menggunakan pakaian yang tipis.	H. AGLOMERASI
9	Dataran aluvial dimanfaatkan untuk daerah pertanian karena tanahnya subur.	I. INTERAKSI
10	Pasar di kota membutuhkan pasokan bahan mentah seperti sayuran dan buah-buahan dari desa	J. NILAI KEGUNAAN
		K. DIFERENSIASI AREA