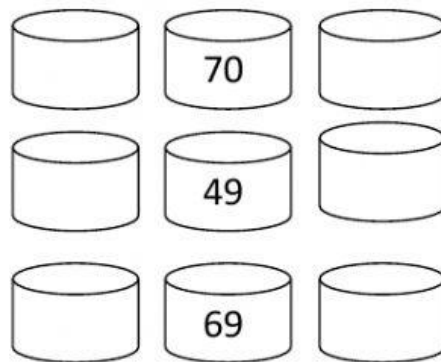
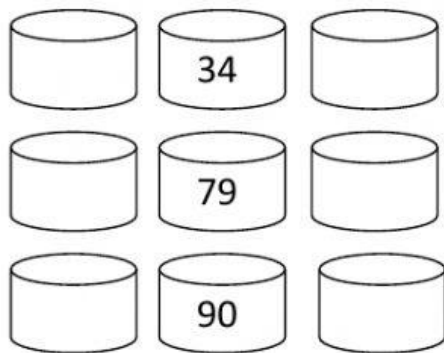


# NUMERACIÓN UNIDADES Y DECENAS

## 1.-ANTERIOR Y POSTERIOR



## 2.-RELACIONA:

$$8D + 4U \quad \underline{\hspace{2cm}} \quad 79$$

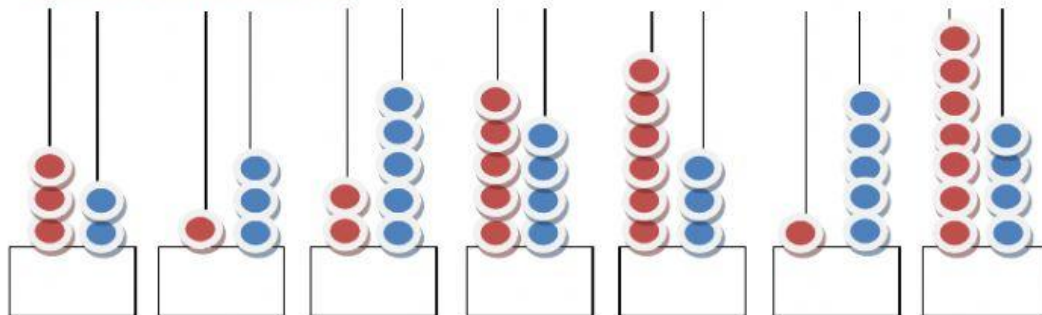
$$4D + 7U \quad \underline{\hspace{2cm}} \quad 92$$

$$6D + 9U \quad \underline{\hspace{2cm}} \quad 47$$

$$9D + 2U \quad \underline{\hspace{2cm}} \quad 84$$

$$7D + 9U \quad \underline{\hspace{2cm}} \quad 69$$

## 3.- ESCRIBE LOS NÚMEROS



## 4.- SIGUE LA SERIE:

10	20								
----	----	--	--	--	--	--	--	--	--

50	49								
----	----	--	--	--	--	--	--	--	--