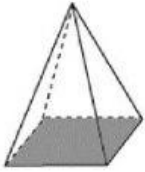



แบบฝึกหัดที่ 6.5

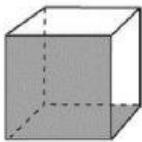
ลากเส้นจับคู่ให้ถูกต้อง



ลูกบาศก์



ปริซึมสี่เหลี่ยม



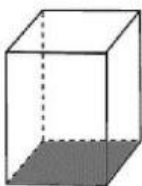
พีระมิดฐานสี่เหลี่ยม



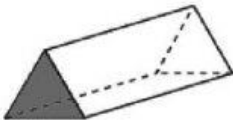
ปริซึมสามเหลี่ยม



กรวย



ทรงกระบอก



ทรงกลม

ชื่อ.....

ชั้น.....

เลขที่.....

โรงเรียน.....