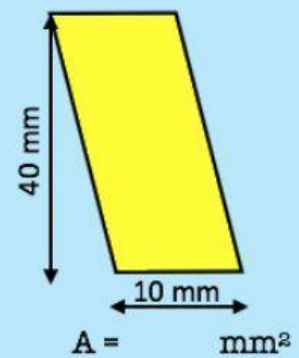
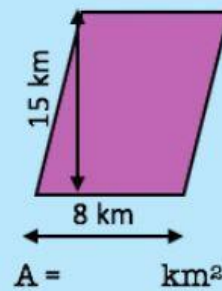
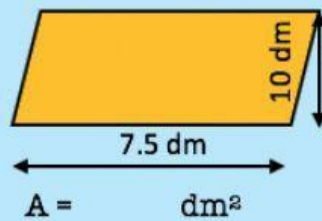
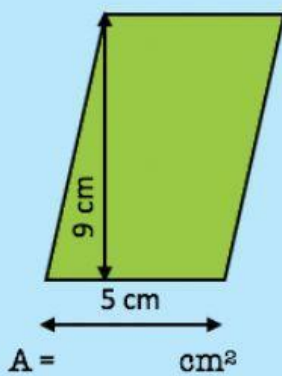


Ejercicio 1: Calcula el área de cada figura, en la unidad que se indica.



Ejercicio 2: Calcula el área de cada romboide. Después, contesta.

a) Su base mide 8 cm y su altura 6 cm.	$A = \quad \text{cm}^2$
b) Su altura mide 4 cm y su base 9 cm.	$A = \quad \text{cm}^2$
c) Su base mide 10 cm y su altura 4,8 cm.	$A = \quad \text{cm}^2$
d) Su altura mide 12,4 cm y su base 5 cm.	$A = \quad \text{cm}^2$