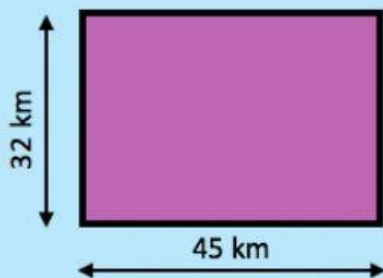




RECTÁNGULOS Y CUADRADOS



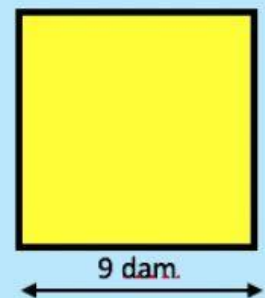
Ejercicio 1: Calcula el área de cada figura, en la unidad que se indica.



A = km^2

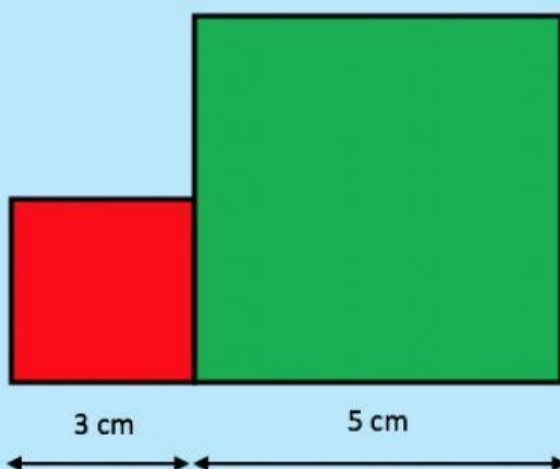


A = mm^2



A = dam^2

Ejercicio 2: Halla el área de cada cuadrado y después contesta.



a) ¿Es el lado del cuadrado mayor el doble del lado del cuadrado menor?

☐ V

☐ F

b) ¿Es el área del cuadrado mayor el doble del área del cuadrado menor?

☐ V

☐ F