

O PRÍNCIPE DAS EMOJIS

Gabriel Rodrigues

Em um reino distante chamado facebook, havia um belo e moderno  .
O  foi acordado pelo  , tomou um  , vestiu
uma  , colocou uma  e botou o  . Foi comer
uma  e beber uma xícara de  para passar o
 , afinal já estava  . Tocou um pouco de  ,
jogou  , brincou com o  e em questão de  ,
recebeu uma  na  com um selo da  e uma
marca de  . Ficou  , não sabia quem poderia ter
lhe  , mas ficou  e ao mesmo tempo  . Na
carta, dizia: "Você não me  , não me  , nem me
 , mas sabe sobre quem é que se trata. Eu sou a
 de  que estava no  com uma pilha de
 nas  ontem à  . Fiquei  por você,
tanto que tive a  de convidá-lo para tomar  e
assistir um  .  para mim, o  está logo
abaixo.  ". Ele ficou  e começou a  de
felicidade. Estava chegando a  marcada, vestiu a
melhor  e saiu de  ,  de nervoso. 
para o  e achou melhor  , já estava  .
No caminho, comprou uma  , um  e uma
 . De repente, a viu andando de  , ao lado da
 . Ele ficou  , estava perto do seu  . Ela
parecia uma  , começou a  e se 

DESVENDANDO O TEXTO

01 Leia com atenção as perguntas e responda com emojis:

O que o príncipe recebeu em sua caixa de e-mail?	
O que a menina levava em suas mãos?	
Que roupa a menina usava no ônibus?	
A moça convidou o príncipe para qual tipo de programação?	
Qual meio de transporte o príncipe usou para ir ao encontro da menina?	
O que ele comprou para ela?	



02 Escolha a alternativa correta: Que instrumento musical o príncipe tocou:

Guitarra

Pandeiro


Piano

03 Este texto pertence a qual gênero textual:

- () Receita
- () Contos de fadas
- () Bula de remédio
- () Fábula

04 A função deste texto é:



- () Informar
- () Ensinar
- () Divertir.

05 Com base no texto, escreva o motivo que deixou o  assustado:




06 Em sua opinião, por que este texto recebeu este título?

MATEMÁTICA




01 Leia e resolva os problemas abaixo:

- a) A  do príncipe possui 12 cordas. Quantas cordas têm em 5  ?

Cálculo	Resposta

- b) O príncipe plantou uma dúzia de  vermelhas e 3 dúzias de  amarelas, para apresentar a princesa. Quantas dúzias de  ele plantou?

Cálculo	Resposta

- c) A  encontro do príncipe com a princesa era às 19:00 hrs. O  atrasou 2 horas. Qual foi a  em que o casal se encontrou?

Cálculo	Resposta