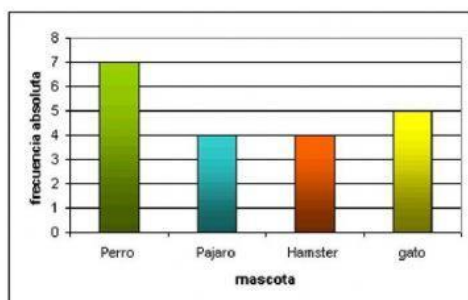




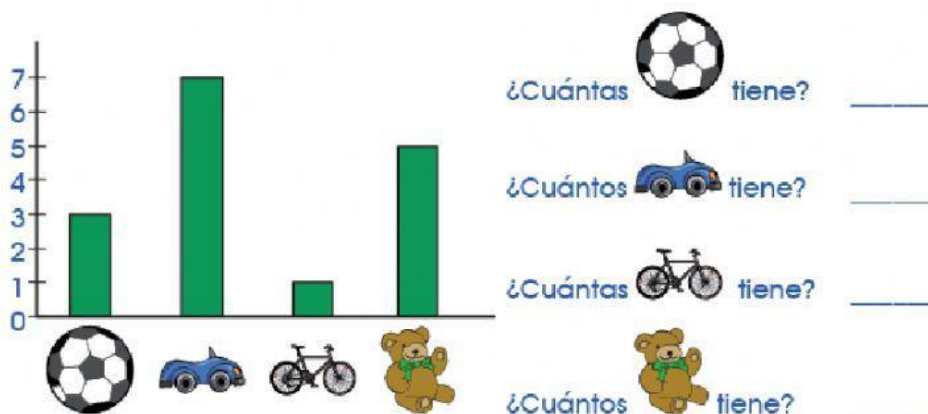
NOMBRE: \_\_\_\_\_

## DIAGRAMA DE BARRAS



Un DIAGRAMA DE BARRAS es un gráfico que se utiliza para representar los datos obtenidos en una encuesta mediante rectángulos cuya altura corresponde a la cantidad de respuestas por cada opción

1. Observar el gráfico de barras que hizo Julián para contar los juguetes que tiene, completa escribiendo el número frente a cada pregunta.

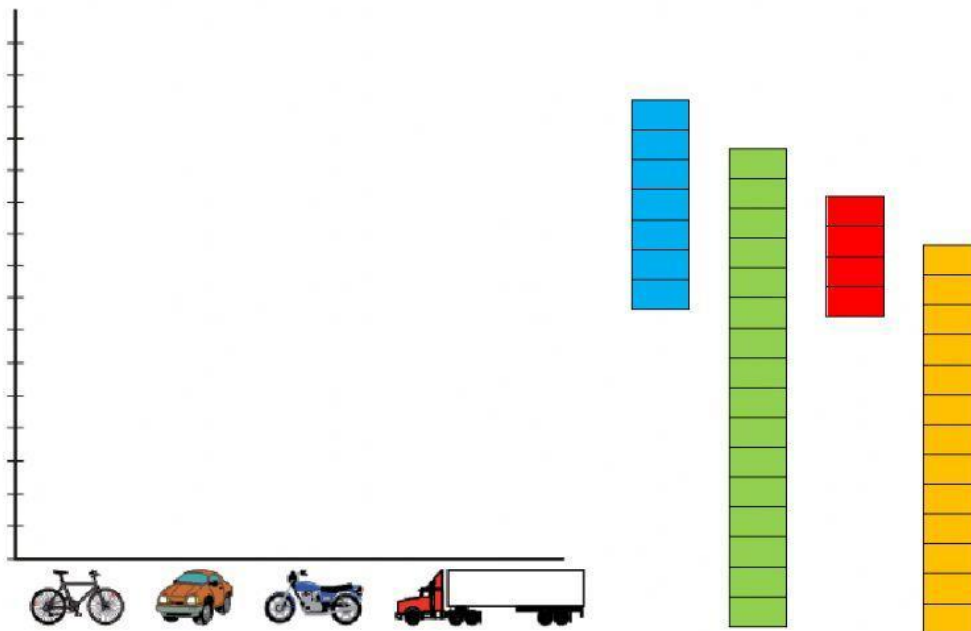


## 2. Construye el gráfico de barras.

Miriam y Andrea viven cerca de una avenida, para pasar el tiempo durante el aislamiento obligatorio se sentaron frente a su ventana y contaron durante una hora los vehículos que pasaron, obteniendo la siguiente información:

- I.** Ahora, te toca armar tu gráfico de barras con los siguientes datos, arrastra la regleta y escribe el número según corresponda:

Vehículos	Cantidad
Bicicletas	7
Motos	4
Autos	16
Camiones	13



Responde las siguientes preguntas teniendo en cuenta los resultados y tu gráfico:

- ¿cuál vehículo fue el que paso en mayor cantidad? \_\_\_\_\_
- ¿Qué vehículo paso menos por la avenida? \_\_\_\_\_
- ¿Cuántos camiones pasaron? \_\_\_\_\_
- ¿Cuántas Bicicletas? \_\_\_\_\_
- En total pasaron \_\_\_\_\_ vehículos