

ĐỀ CƯƠNG ÔN TẬP TIN HỌC 5

I. TRẮC NGHIỆM:

Câu 1: *Lệnh sau đây cho kết quả là hình gì: FD 100 BK 20 REPEAT 4[FD 20 RT 360/4]*

- A. Ngôi sao
- B. Hình tròn
- C. Dấu cộng
- D. Lá cờ

Câu 2: *Điền vào chỗ trống để vẽ hình lục giác trong LOGO: Repeat ...[FD 100 RT ...]*

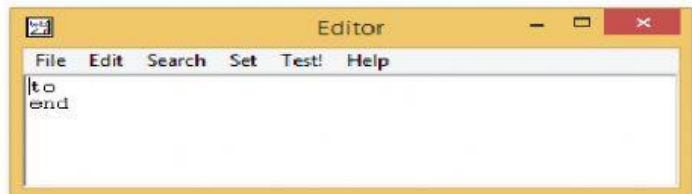
- A. 5 và 360/5
- B. 6 và 6
- C. 6 và 360/6
- D. 6 và 360

Câu 3. *Để chèn hình ảnh vào trang trình chiếu em cần thực hiện.*

- A. Vào Insert -> Picture
- B. Vào Home -> Picture
- C. Vào Design -> Picture
- D. Vào Insert -> Shapes

Câu 4. *Một bạn học sinh viết thủ tục hìnhvuong để vẽ hình vuông. Nhưng khi gõ lệnh tạo thủ tục bạn ấy chỉ được kết quả như hình dưới. Em hãy chỉ ra câu lệnh bạn đó thực hiện dẫn đến kết quả như vậy trong các câu lệnh sau.*

- A. edit “hình vuông
- B. edit “ hìnhvuong
- C. edit “hìnhvuong”
- D. edit“hìnhvuong



Câu 5: *Đâu là thao tác đúng khi em muốn thực hiện chèn Video vào bài trình chiếu:*

- A. Chọn thẻ Home => Movie => Chọn Movie from File...
- B. Chọn thẻ Insert => Movie => Chọn Movie from File...
- C. Chọn thẻ Design => Movie => Chọn Movie from File...
- D. Chọn thẻ Animations => Movie => Chọn Movie from File...

Câu 6: *Để thủ tục trong Logo không bị mất khi tắt máy tính em dùng lệnh nào ?*

- A. save cacthutuc
- B. save cacthutuc.lgo
- C. save “cacthutuc.logo
- D. save “cacthutuc.lgo

Câu 7. Trong phần mềm Microsoft Powerpoint, để tạo hiệu ứng chuyển động em thực hiện:

- A. Chọn thẻ Animations => Add Animations => Chọn kiểu thích hợp.
- B. Chọn thẻ Insert => Add Animations => Chọn kiểu thích hợp.
- C. Chọn thẻ Design => Add Animations => Chọn kiểu thích hợp.
- D. Chọn thẻ Home => New Slide

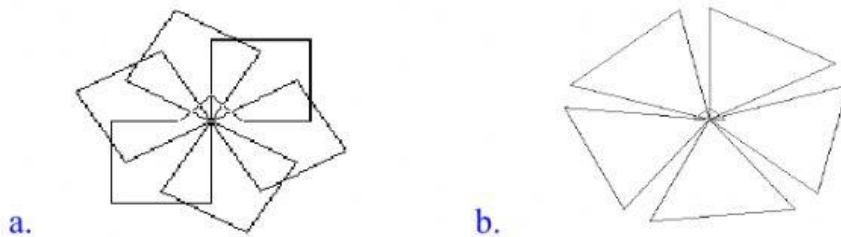
Câu 8. Để thực hiện viết một thủ tục trong phần mềm Logo câu lệnh nào sau đây đã được viết đúng?

- A. edit "tamgiac1
- B. Edit "123456
- C. edit "hình vuông
- D. Edit "1234a"

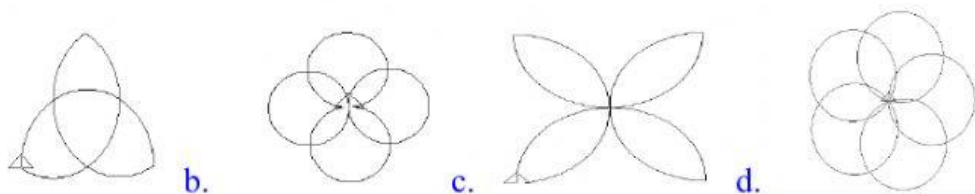
Câu 16: Trong Power Point, đặt thông số chung cho các trang trình chiếu:

- A. Nháy chuột chọn Insert -> Date & time
- B. Nháy chuột chọn Insert -> Header & Footer
- C. Nháy chuột chọn Insert -> Slide Number
- D. Cả 3 đáp án trên đều đúng.

Câu 17: Viết lệnh điều khiển Rùa vẽ các hình sau: biết mỗi cạnh dài 100 bước



Câu 18: Điền lệnh còn thiếu vào chỗ trống để rùa vẽ được các hình sau:



a. Repeat[repeat[fd 3 rt] rt]

b. Repeat[repeat[fd 5 rt] rt]

c. Repeat[repeat[fd 4 rt] rt]

d. Repeat[repeat[fd 6 rt] rt]