

# Lembar Kegiatan

## Peserta Didik

Tahun Pelajaran 2021-2022



Nama : .....



## Kegiatan 1

### A. Bacalah Teks di bawah ini!

#### Kegiatan Ekonomi Negara-Negara ASEAN

Indonesia mengekspor hasil bumi seperti timah, tembaga, besi, minyak, gas, dan nikel. Selain itu, Indonesia menghasilkan pupuk, tapioka, karet, kopi, kelapa sawit, dan tembakau. Ikan tuna, udang, dan teh juga diekspor ke negara lain.

Brunei Darussalam terkenal sebagai pengeksport minyak mentah, gas alam, dan produk minyak. Penduduk Malaysia bermata pencaharian dalam bidang pertanian, pertambangan, dan perindustrian. Pertambangannya menghasilkan bijih timah terbesar di dunia.


Singapura mengekspor mesin dan alat transportasi, alat elektronik, dan barang-barang konsumsi. Bahan kimia dan produk olahan minyak dihasilkan juga di Singapura. Singapura termasuk negara Asia Tenggara yang berpendapatan paling tinggi.

Mata pencaharian penduduk Thailand adalah pertanian, kehutanan, pertambangan, dan industri. Penghasil beras terbesar di Asia dan tiga sedunia (dijuluki Gajah Putih, negara Seribu Pagoda, lumbung padi ASEAN)

Filipina merupakan negara kepulauan dengan jumlah pulau 7.000 lebih. Mata pencaharian penduduk Filipina adalah pertanian, pertambangan dan industri. Pertanian merupakan tumpuan ekonomi Filipina dan menyerap 45% dari seluruh tenaga kerja. Hampir separuh dari tanah pertanian ditanami padi dan jagung yang separuhnya lagi ditanami kelapa, abaca atau rami, pisang, tebu, nanas dan tembakau. Kebanyakan industri mengelola pasir pertanian dan bahan mineral. Komoditas ekspor Filipina terdiri atas gula, kopra, kayu, nanas, dan bijih tembaga.

Perekonomian sebagian besar penduduk Vietnam adalah pertanian. Padi merupakan hasil utama pertanian di Vietnam. Industri di Vietnam meliputi tekstil, semen, pupuk, kaca, dan ban. Pertambangan di Vietnam menghasilkan emas, bijih besi, timah, gamping, fosfat, tungsten (wolfram),





dan seng. Hasil hutannya adalah bambu, kina, kayu, dan kayu manis. Terdapat dua sungai penting, yaitu sungai Mekong dan sungai Songka.

Sebagian besar penghidupan penduduk Kamboja di sektor pertanian. Tanaman utamanya adalah padi dan karet. Lebih dari 80% daerah pertaniannya ditanami padi untuk keperluannya sendiri. Industri yang agak besar adalah usaha pemerintah antara lain pabrik gula, pabrik semen, tekstil, ban, pabrik kaca, dan perusahaan assembling.

Laos adalah satu-satunya negara yang tidak berpantai di Asia tenggara. Rakyat Laos hidup di sektor pertanian yang menghasilkan beras, jagung, tembakau, jeruk, dan kopi. Peternakan juga merupakan sumber pendapatan penting terutama ternak sapi, kerbau, dan babi merupakan populasi paling banyak.

Myanmar merupakan negara asia tenggara yang terluas di daratan asia. Pertanian merupakan aktivitas ekonomi terpenting dan memberikan lebih sepertiga GNP Myanmar. Komoditas perdagangan Myanmar meliputi kayu (terutama kayu jati), beras, pupuk, dan berbagai barang kerajinan.

## **B. Jawablah pertanyaan di bawah ini!**

1. Tuliskan beberapa industry penting di negara Vietnam?


Jawab :

2. Jelaskan hasil pertanian negara Filipina!

Jawab :

3. Apa mata pencaharian terbesar masyarkat laos! Tuliskan pula tanaman utamanya!

Jawab :




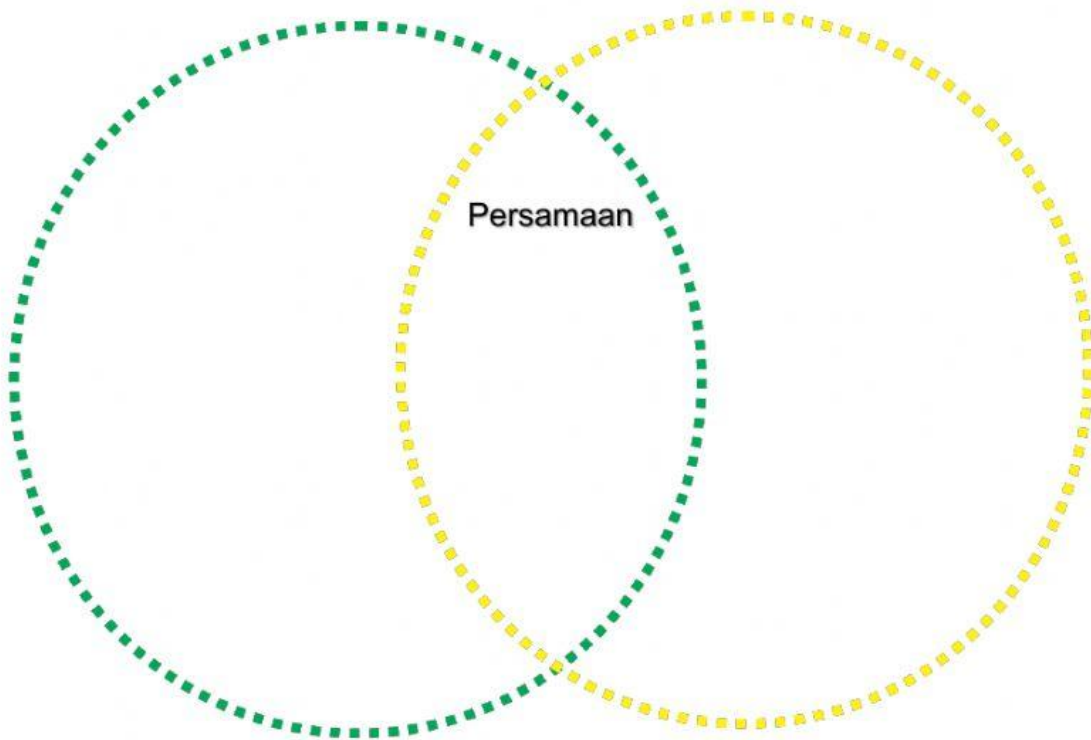
**C. Lengkapilah diagram di bawah ini!**


Pilihlah 2 negara. Kemudian tuliskan kegiatan ekonomi 2 negara tersebut. Dan carilah persamaannya dari 2 negara tersebut.

**DIAGRAM VEN  
KONDISI EKONOMI**

**Negara :**


**Negara :**





## Kegiatan 2

### A. Simaklah Video dibawah ini!



### B. Jawablah pertanyaan di bawah ini!

1. Apa pewarna yang cocok untuk patung berbahan dasar kayu?

Jawab :

2. Bagaimana cara membentuk plastisin sesuai dengan keinginan kita?

Jawab :

3. Apakah bahan yang dapat dijadikan sebagai pengganti plastisin?

Jawab :

