


LATIHAN MATEMATIKA KELAS 1
SDN PEGADUNGAN 04 PAGI, OLEH: KASNIATUN, S.Pd.

MTK -
BANGUN
DATAR

Nama / Kelas :

Perhatikan tayangkan video dibawah ini!




A. Soal Pilihan Ganda

Pilihlah jawaban yang paling tepat!

1. Sembilan belas ditulis dengan angka....
 - a. 14
 - b. 19
 - c. 23
2. Jumlah jari tangan ada...
 - a. 3
 - b. 5
 - c. 7
3. 6, ..., 8, 9, 10
Angka yang tepat untuk urutan diatas adalah...
 - a. 3
 - b. 5
 - c. 7

4. Jila memiliki 4 boneka
Jeni memiliki 5 boneka
Berarti, boneka yang dimiliki Jeni lebih dari boneka yang dimiliki Jila.
- Sedikit
 - Banyak
 - Besar
5. $7 + 2 = \dots\dots$
- 7
 - 8
 - 9

Perhatikan gambar berikut!




6. Jumlah apel pada gambar adalah....
- 6
 - 9
 - 11
7. Jumlah roda mobil ada....
- Dua
 - Empat
 - Delapan
8. Angka yang ada diantara 3 dan 5 adalah angka....
- 4
 - 7
 - 10
9. Dua ditambah lima hasilnya....
- Tiga
 - Tujuh
 - Sebelas
10. Toni memelihara 1 kucing dan 1 kelinci.
Jumlah kaki hewan peliharaan Toni adalah....
- Lima
 - Enam
 - Delapan

B. Soal Drop Down

Pilih jawaban yang sesuai dengan pertanyaan!

1. Jumlah seluruh jeruk adalah...



2. Jumlah kaki yang dimiliki gajah dan burung adalah...

