

hari, tanggal :

nama :



*pilihlah jawaban yang benar! (pilihan ganda)*

1. *gambar berikut menunjukkan isyarat bilangan ....*



- a. 2
- b. 3
- c. 4

2. *gambar berikut menunjukkan isyarat bilangan ....*



- a. 1
- b. 2
- c. 3

3. *gambar berikut menunjukkan isyarat bilangan ....*



- a. 2
- b. 3
- c. 4

4. *gambar berikut menunjukkan isyarat bilangan ....*








- a. 3
- b. 4
- c. 5

5. *gambar berikut menunjukkan isyarat bilangan ....*



- a. 1
- b. 2
- c. 3

*pilihlah jawaban yang benar! (drop down)*

 <b>satu</b> <input type="text"/>	 <b>dua</b> <input type="text"/>	 <b>tiga</b> <input type="text"/>
 <b>empat</b> <input type="text"/>	 <b>lima</b> <input type="text"/>	

