

Transferencia Semana 23: Resuelve y envía la evidencia por los medios acordados.

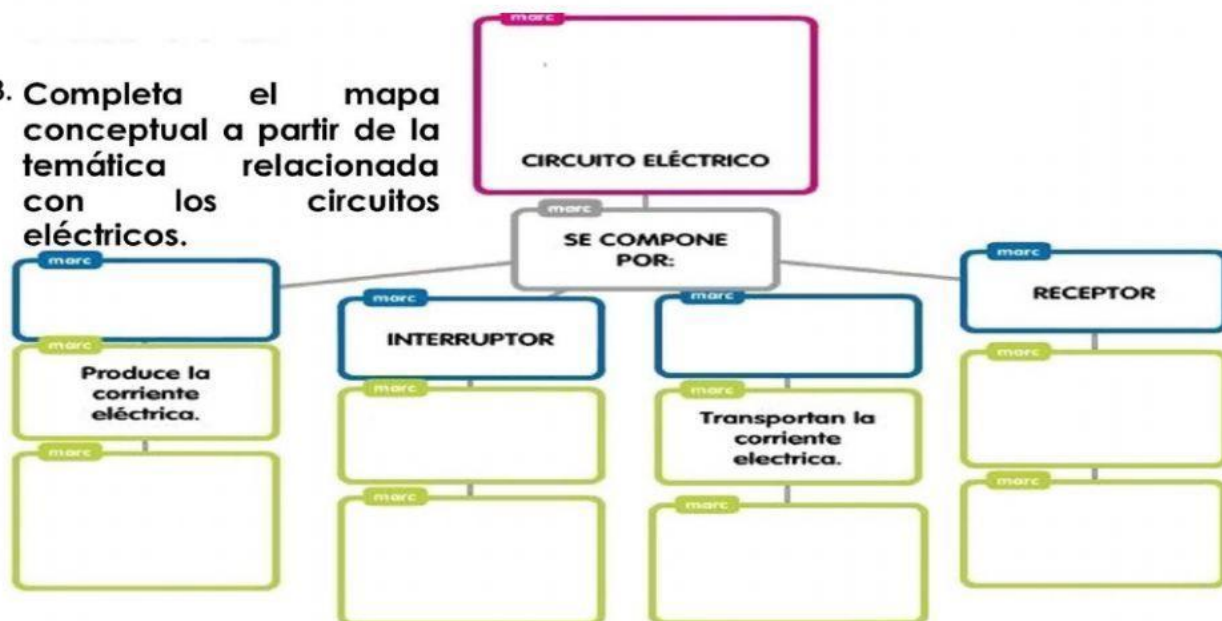
1. Observa la siguiente imagen, crees que la conexión entre las partes de este circuito permitirá encender el bombillo. Explica tu respuesta.



2. Si tuvieras que construir un circuito y te faltaran los cables conductores, ¿Cuáles de los siguientes materiales elegirías para reemplazarlos? Explica la respuesta.

Lápices. -----Clips. -----Lapiceros. -----Cordones.

3. Completa el mapa conceptual a partir de la temática relacionada con los circuitos eléctricos.


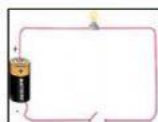


Corta el paso a la corriente eléctrica

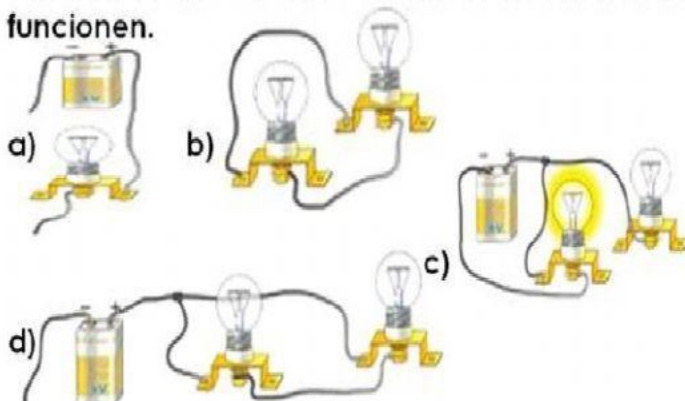
CONDUCTORES

Reciben y utilizan la corriente eléctrica.

GENERADOR



4. Indica cuáles circuitos eléctricos no funcionan y que componentes faltan para que funcionen.



a). _____

b). _____

c). _____

d). _____