
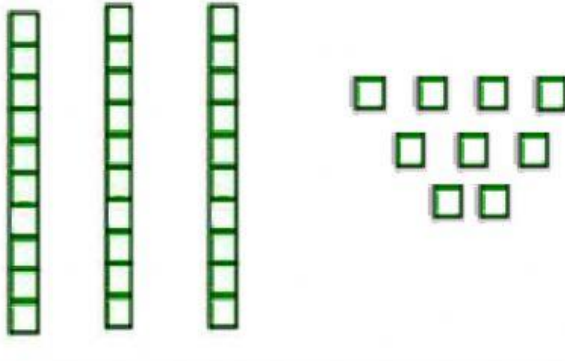


نشاط في الرياضيات
الفصل الأول : القيمة المنزلية حتى ١٠٠ و الأنماط

الكفاية: يقرأ و يكتب و يمثل الأعداد في حدود ١٠٠.

س١: أكتب عدد الآحاد و العشرات فيما يلي، ثم أكتب العدد الكلي:

	
عشرات آحاد و = +	عشرات آحاد و = +

س٢: أحدد القيمة المنزلية للرقم الذي تحته خط:





$\begin{array}{r} 19 \\ \underline{\quad} \end{array}$	$\begin{array}{r} 57 \\ \underline{\quad} \end{array}$	$\begin{array}{r} 29 \\ \underline{\quad} \end{array}$
١٠ أو ١	٥٠ أو ٥	٩٠ أو ٩

س٣: أكتب العدد بالطريقة الأخرى عن المعطاة لك:

سَبْعَةَ عَشَرَ	٣١	تِسْعَةَ
-----------------	----	----------

الكفاية: يكتسب الحس الرياضي.

س٤: أ قدر العدد فيما يلي، و أحدد الإجابة:

			
١٠ تقريباً	٤٠ تقريباً	٥٠ تقريباً	٢٠ تقريباً

الكفاية: يقارن و يرتب مجموعة من الأعداد في حدود ٣ أرقام.

س٥: استعمل خط الأعداد و أكتب الأعداد:



٣٣ ، ٣٢ ،	٢٤ ،	٢٢ ، ١٢ ،	١٠ ،
-----------------	------------	-----------------	------------

س٦: أقرن بين الأعداد و أحدد الإشارة المناسبة < أو > أو = :

١٥ ○ ١٥	٣٧ ○ ٥٢	٩٠ ○ ٤٣
= > <	= > <	= > <
٥٩ ○ ٩٥	٦٠ ○ ٦٣	٧٨ ○ ٨٧
= > <	= > <	= > <

الكفاية: يحدد النمط و يوسعه.

س٧: أكمل الأنماط فيما يلي:

			١٠			٤	٢
--	--	--	----	--	--	---	---

		١٨				٦	٣
--	--	----	--	--	--	---	---

					٣٣	٢٢	١١
--	--	--	--	--	----	----	----

إعداد: أ. زينب جاسم