



**PENILAIAN AKHIR TEMA V  
TAHUN PELAJARAN 2020 – 2021  
SDS IT NURUL YAQIN**



Mata Pelajaran : TEMATIK

Kelas : IV (Empat)

Hari, tanggal :

Nama : .....

**Petunjuk :**

1. Berdoalah sebelum mengerjakan soal
2. Tulislah nama lengkap pada tempat yang tersedia
3. Bacalah soal dengan teliti, kerjakan soal yang lebih mudah bagimu
4. Jawab pertanyaan secara mandiri.
5. Periksa lagi pekerjaanmu sebelum dikumpulkan
6. Kumpulkan melalui **Google Classroom** pada waktu yang telah ditentukan.

**I. PILIHAN GANDA**

(Berilah tanda **Highlight** huruf A,B,C atau D pada jawaban yang benar!)

1. Perhatikan gambar di bawah ini !



pada zaman Dahulu alat ini digunakan untuk....

- a. Memasak
- b. Mendengarkan lagu
- c. Mencuci
- d. Mendengarkan radio

2. Pada tanggal 17 Agustus 1945 adalah hari yang paling bersejarah bagi bangsa Indonesia, karena hari itu terjadi sebuah peristiwa besar yaitu.....
- a. Pangeran Fatahillah menghancurkan Sunda Kelapa dan sebagai gantinya mendirikan kota Jayakarta
  - b. Didirikanya organisasi Budi Utomo
  - c. Masuknya jepang ke Indonesia
  - d. proklamasi yang dibacakan oleh Presiden RI Ir.Soekarno

3. Perhatikan gambar di bawah ini !



kegiatan yang dilakukan pada gambar di samping merupakan tradisi yang masih dilakukan masyarakat Bali hingga saat ini, tradisi ini merupakan peninggalan kerjaan

- a. Islam
- b. Hindu
- c. Budha
- d. kristen

## II. Pilihan Ganda Kompleks

( Berilah tanda **highlight** pada Benar/salah )



4. Mesopotamia dianggap sebagai peradaban kuno tertua di dunia (Benar/salah)



5. Manusia sangiran merupakan bukti peninggalan **zaman sejarah** yang tersimpan dalam museum nasional (Benar/salah)







6. Gambar di atas merupakan tradisi yang kebudayaan dari suku Batak (Benar/salah)

### III. Multiple choice Multiple Answer (MCMA)

Berilah tanda **check list (✓)** pada beberapa pilihan jawaban yang dianggap benar!

7. Indonesia merupakan negri yang sangat luas dan sangat kaya akan hasil alamnya. Sejak zaman dahulu peradaban di Indonesia sudah berkembang sangat pesat. Hal ini dapat dilihat dari peninggalan peninggalan yang di temukan di Indonesia. Berikut adalah bukti perabadan yang ada di Indonesia....

a.		
b.		
c.		
d.		

8. Peradaban mesir kuno berkembang di sepanjang bagian hilir sungai Nil.  
Kondisi alam yang terlatak di daerah gurun membuat penduduknya harus hidup di dekat sumber air. Hujan sangat jarang turun sehingga menyulitkan pertanian dan masyarakatnya banyak yang menjadi pedagan.

Apa saja hasil kebudayaan dari peradaban mesir kuno.....

e.		
f.		
g.		
h.		

9. Agama Islam masuk ke Indonesia langsung dari Timur Tengah melalui jasa para pedagang Arab muslim sekitar abad ke-7 M. kerjaan islam pertama di Indonesia berada di daerah Aceh, lalu islam menyebar keseluruh Indonesia melalui wali songo. Berikut ini adalah kerjaan bercorak islam ada di Indonesia yaitu:

a. Kerajaan Samudra pasai	
b. Kerajaan Demak	
c. Kerajaan Kutai	
d. Kerjaan Ternate & Tidore	

#### IV. Menjodohkan / Tarik garis

Jodohkan kalimat yang ada di sebelah kiri dengan jawaban yang ada di sebelah kanan dengan cara menarik garis!

10. Pasangkan benda dan kegunaannya, benda-benda yang digunakan di zaman dahulu



TEMPAT  
MENYIMPAN DATA



TEMPAT  
MENYIMPAN MUSIK



BENDA PUSAKA

11. Pasangkan peradaban kuno dibawah ini dengan hasil kebidayaanya



PERABABAN SUKU  
INCA



PERDABAN ROMAWI  
KUNO



PERADABAN SUNGAI  
INDUS DAN GANGGA

12. Pasangkan peninggalan kerjaan dengan peninggalanya



KERAJAAN ISLAM



KERAJAAN HINDU



KERAJAAN BUDHA

**V. Isilah titik-titik di bawah ini dengan jawaban yang singkat dan tepat!**

- 13. Kumpulan suatu identitas terluas dari seluruh hasil budidaya manusia disebut...
- 14. Sesuatu yang akan memengaruhi tingkat pengetahuan disebut...
- 15. Manusia memulai peradaban dimulai dari daerah tempat tinggal yang...

**VI. Jawablah pertanyaan di bawah ini dengan benar dan tepat!**

- 16. Jelaskan perbedaan antara peradaban dan kebudayaan!
- 17. Jelaskan pengaruh peninggalan kerajaan Islam pada kehidupan masa kini di bidang social!
- 18. Jelaskan pengaruh peninggalan kerajaan hindu dan budha di bidang Seni Arsitektur!

**VII. Jawablah pertanyaan dibawah ini dengan menuliskan jawaban dan berikan penjelasan atas jawaban yang telah diberikan!**

19. Peradaban mesir kuno berkembang di sepanjang bagian hilir sungai Nil. Kondisi alam yang terlatak di daerah gurun membuat penduduknya harus hidup di dekat sumber air. Banyak masyarakat mesir kuno hidup dengan menjadi pedagang.

Ya :

tidak :

Jelaskan alasanmu!

20. Pengaruh Hindu terhadap aktifitas keagamaan di Indonesia tercermin hingga kini. Kehidupan sosial, seni, dan budaya mereka cukup kental dipengaruhi tradisi Hindu. Misalnya: Upacara Ngaben, di Bali yaitu di mana Jenazah seseorang yang telah meninggal biasanya di bakar, lalu abunya ditaburkan ke laut agar “bersatu” kembali dengan alam.

Upacara ngaben dilakukan oleh semua orang yang beragama Hindu

Ya :

tidak :

Jelaskan alasanmu!

21. Indonesia meemiliki keragaman suku mulai dari sabang sampai marauke. Keberagaman suku di Indonesia membuat Indonesia kaya akan budaya. Kekayaan ini menjadi asset bagi bangsa kita.

Budaya harus dilestarikan agar tidak punah

Ya :

tidak :

Jelaskan alasanmu!