

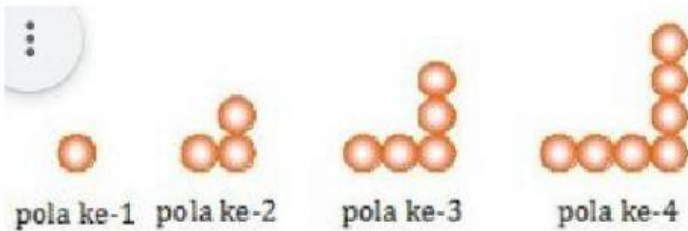
LEMBAR KERJA PESERTA DIDIK POLA KONFIGURASI OBJEK

Oleh : Dinar Kasih Riani, S.Pd

Nama :

Kelas :

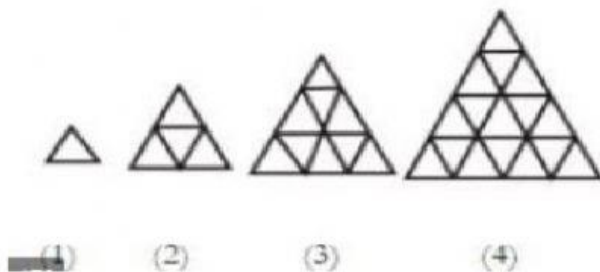
A. Perhatikan gambar berikut :



Dari gambar tersebut, dapat dilihat pada pola ke-1, banyaknya bulatan (orens) adalah 1

1. Banyak bulatan pada pola ke-2 adalah
2. Banyak bulatan pada pola ke-3 adalah
3. Banyak bulatan pada pola ke-4 adalah
4. Barisan bilangan dari pola ke-1 hingga pola ke-4 yang benar adalah
 - a. 1, 2, 3, 4
 - b. 1, 3, 5, 7
 - c. 3, 5, 7
5. Dari pola barisan, maka banyak bulatan pada pola ke-5 adalah
6. Banyak bulatan pada pola ke-8 adalah
7. Banyak Bulatan pada pola ke-11 adalah

B. Perhatikan pola berikut




8. Gambar tersebut menunjukkan pola suatu barisan yang disusun dari segitiga kecil yang berukuran sama.
Banyak segitiga pada pola ke-1 adalah
 - a. 1
 - b. 3
9. banyak segitiga pada pola ke-2 adalah 4

10. Banyak segitiga pada pola ke-3 adalah
11. Barisan bilangan yang terbentuk dari pola segitiga tersebut adalah
- a. 1, 2, 3, 4 b. 1, 4, 9, 15 c. 1, 4, 9, 16
12. Banyak segitiga pada pola ke-6 adalah

C. Kerjakan dengan teliti ya



13. Banyak susunan gelas ke-6 adalah
14. Gambar berikut menunjukkan pola suatu barisan yang disusun dari batang korek api. Banyak korek api pada pola ke-4 adalah



15. Gambar diatas menunjukkan pola suatu barisan yang disusun dari batang korek api. Banyak korek api pada pola ke-6 adalah
16. Pola berikut tersusun dari bulatan kecil. Barisan bilangan yang terbentuk adalah 2, 6, 12, 20, Pola ke-5 dari pola berikut adalah

