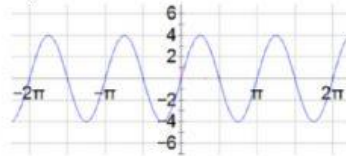


# แบบทดสอบ

คำชี้แจง ให้นักเรียนเลือกคำตอบที่ถูกต้องที่สุดเพียงข้อเดียว

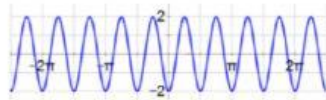
1. จากกราฟที่กำหนดให้ ข้อใดต่อไปนี้ไม่ถูกต้อง



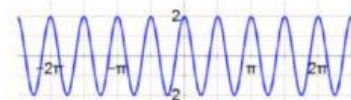
1. สมการของกราฟ คือ  $f(x) = 4\sin 2x$
  2. คาบของฟังก์ชัน คือ  $2\pi$
  3. แอมพลิจูดของฟังก์ชัน คือ 4
  4. เรจันของฟังก์ชัน คือ  $[-4, 4]$
2. ข้อใดต่อไปนี้เป็นกราฟของฟังก์ชัน

$$f(x) = 2 - \cos(4x)$$

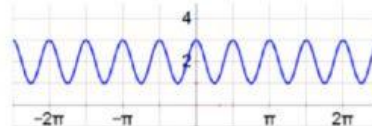
1.



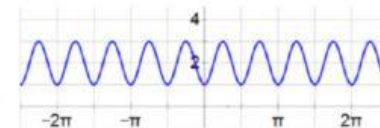
2.



3.



4.



ชื่อ.....ชั้น.....เลขที่.....