

CARRERA DE DINOSAURIOS

2 niños/as representan a los dinosaurios Ron y Mei. Cada uno debe elaborar series numéricas a partir del uso de cubos de colores. Luego estiman y contestan las preguntas.



RONDA 1

RONDA 2


RONDA 3




RONDA 1

RONDA 2

RONDA 3



ARRASTRA









ARRASTRA



RONDA 4

RONDA 5

NÚMERO DE BLOQUES DE CADA COLOR

						TOTAL
<input type="text"/>	<input type="text"/>	<input type="text"/>	<input type="text"/>	<input type="text"/>	<input type="text"/>	<input type="text"/>



RONDA 4

RONDA 5

NÚMERO DE BLOQUES DE CADA COLOR

						TOTAL
<input type="text"/>	<input type="text"/>	<input type="text"/>	<input type="text"/>	<input type="text"/>	<input type="text"/>	<input type="text"/>

¿PODEMOS OPERAR CON LOS NÚMEROS SIN QUE DEN 0?

SI/NO