



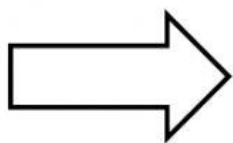
SDN WANAKERTA
AI ERLINAWATI, S.PD

KELAS : 5
MUATAN PELAJARAN : IPA
MATERI : **ORGAN GERAK HEWAN**

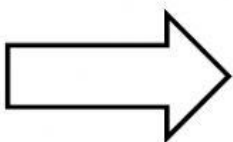
NAMA SISWA :

KECAMATAN BUNGURSARI
KABUPATEN PURWAKARTA

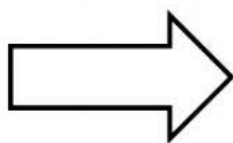
Tentukanlah hewan yang bertulang belakang dan tidak bertulang belakang kemudian pasangkan gambar hewan di bawah dengan ciri-ciri khusus yang dimiliki hewan tersebut dengan tepat!



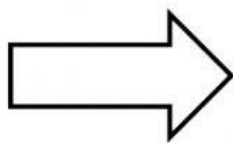
Termasuk hewan mamalia.
Berjalan dengan kaki,
memegang dengan tangan



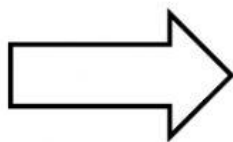
Golongan reptilia karena
bergerak melata dengan
otot perut, 4 kaki untuk
berjalan atau berlari, dan
ekor untuk penunjang



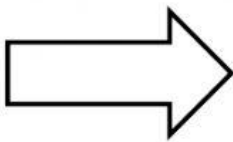
Golongan unggas karena
selain berjalan dan
bertengger dengan kaki,
aku pun memiliki sayap
untuk terbang, dan ekor
untuk menukik dan
berbelok.



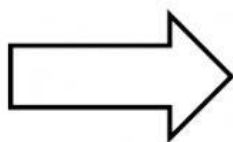
Mempunyai sirip untuk
mengatur gerakan ke atas
atau ke bawah, dan ekor
untuk mendorong tubuh



Termasuk binatang amfibi
yang hidup di air dan darat
serta mengalami
metamorfosis dapat
melompat dan berenang
dengan kaki



Termasuk moluska karena
bertubuh lunak. Memiliki
cangkang, berjalan dengan
kaki perut yang lebar dan
pipih



Termasuk binatang insekta
atau serangga, terbang
dengan dua pasang sayap
dan tiga pasang kaki