

Lembar Kegiatan Peserta Didik

Nama :



Kondisi geografis di Asia Tenggara membantu penduduknya memanfaatkan hewan dalam kehidupan sehari-hari. Ikan banyak dijual dan dikonsumsi, hewan ternak banyak yang dijual di dalam negeri bahkan sampai ada yang mengekspornya.

Potensi Ekonomi Negara-Negara Anggota ASEAN

Kawasan Asia Tenggara terletak pada jalur perdagangan dunia. Kawasan ini menjadi jembatan antara kawasan Eropa dan Asia Timur. Oleh karena itu, Asia Tenggara menjadi wilayah persaingan bagi pihak-pihak yang ingin memanfaatkan kedudukan strategis kawasan ini. ASEAN berperan sebagai wadah untuk menghindari persengketaan yang mungkin timbul. Dengan posisi yang strategis ini, setiap negara di kawasan Asia Tenggara memiliki kekayaan sumber daya yang menjadi kekuatan negara.

Brunei Darussalam


Negara ini terkenal dengan kekuatan sumber daya alam berupa minyak bumi dan gas alam. Brunei menjadi negara di Asia Tenggara yang memiliki pendapatan per kapita tertinggi karena gas alamnya.



Filipina


Filipina adalah sebuah negara kepulauan yang mata pencaharian sebagian besar penduduknya adalah di bidang pertanian. Filipina berhasil menjadi salah satu negara di dunia yang dapat membangun dan mengembangkan pertaniannya dengan baik.

Beberapa produk unggulan hasil pertaniannya diekspor ke berbagai negara, seperti nanas, padi, kelapa, dan gula. Hasil pertanian ini juga yang menunjang perkembangan ekonomi negara ini.



Indonesia

Sebagai negara kepulauan terbesar di kawasan ini, Indonesia memiliki ragam sumber daya alam yang sangat kaya. Banyak hal yang dapat dikembangkan untuk memperkuat perkembangan ekonomi Indonesia. Saat ini Indonesia mengekspor minyak dan gas bumi, tekstil, dan produk-produk dari kayu. Pertambangan menjadi salah satu pintu masuk para pengusaha mancanegara ke Indonesia. Keindahan alam Indonesia pun merupakan daya tarik yang menjadi sumber devisa negara dari sektor pariwisata.



Kamboja

Di Kamboja mengalir Sungai Mekong. Daerah di sekitar Sungai Mekong merupakan daerah yang subur. Mata pencaharian penduduk Kamboja adalah pertanian. Hasil pertanian Kamboja yang besar adalah padi dan karet.



Laos

Laos bertetangga dengan Kamboja. Negara ini dilewati oleh aliran Sungai Mekong. Sama seperti di Kamboja, kegiatan pertanian banyak dilakukan di sepanjang aliran sungai ini. Sebagian besar hasil pertanian dinikmati oleh masyarakat Laos.



Malaysia

Kegiatan ekonomi utama penduduk Malaysia adalah di bidang pertanian, pertambangan, dan perindustrian. Perdagangan internasional merupakan salah satu kegiatan ekonomi Malaysia yang mengalami pertumbuhan tercepat. Peralatan elektronik, minyak, dan gas bumi diekspor ke negara lain. Produk dari kayu, minyak sawit, karet, tekstil, sepatu, dan bahan-bahan kimia diperdagangkan di dunia internasional.



Myanmar

Mata pencaharian utama penduduk Myanmar adalah pertanian, perkebunan, dan pertambangan. Padi merupakan hasil utama dari pertanian di sana. Myanmar merupakan salah satu negara penghasil padi terbesar di Asia Tenggara.



Singapura

Singapura merupakan negara paling maju di kawasan ASEAN. Letak Singapura sangat strategis. Saat ini Singapura menjadi negara transit teramai di Asia.




Thailand

Thailand sering disebut sebagai lumbung padi di Asia Tenggara. Padi memang merupakan hasil pertanian terbesar dari negara ini. Selain itu, perkebunan, kehutanan, pertambangan, dan industri juga merupakan kegiatan ekonomi penduduk Thailand. Saat ini, penghasilan utama Thailand adalah sektor pariwisata. Keunikan bangunan budaya di Thailand menjadi daya tarik tersendiri bagi para wisatawan mancanegara.



Vietnam

Setelah pulih dari Perang Vietnam, negara ini mulai berkembang di berbagai sektor perekonomiannya. Pariwisata dan turisme mendukung perkembangan ekonomi. Bidang pendukung lainnya seperti usaha jasa di bidang perhotelan, restoran, serta transportasi juga turut berkembang pesat.

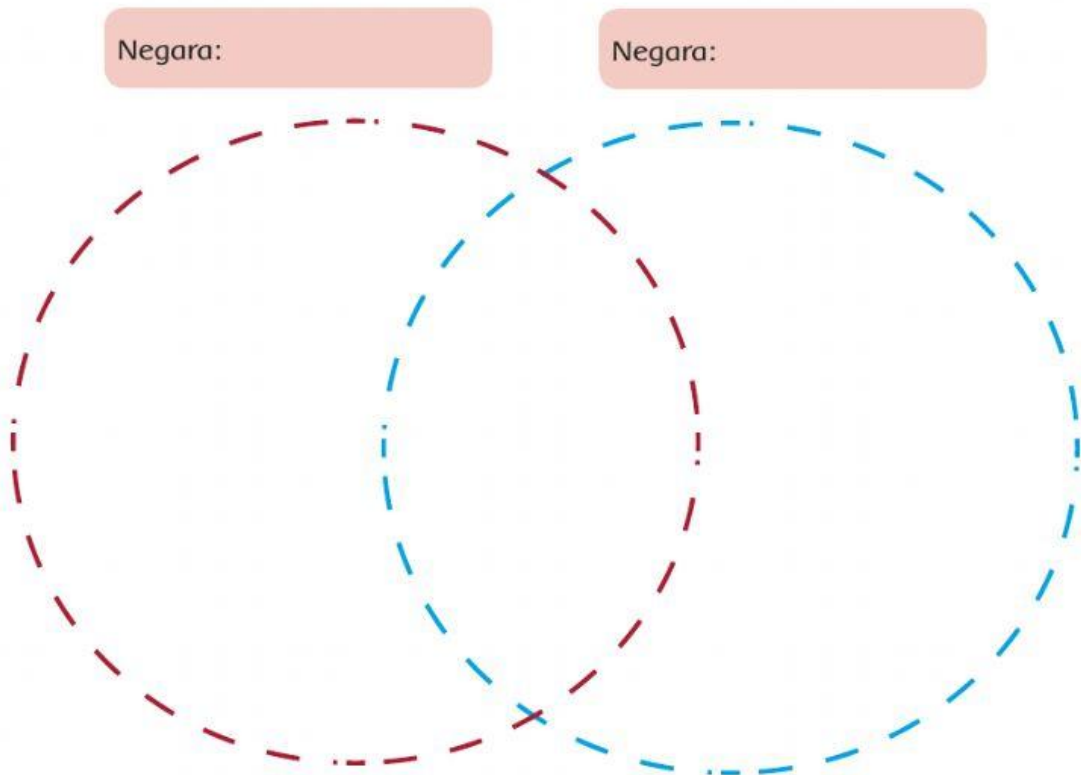


Lingkungan yang sehat menjadikan badan sehat dan kuat.

Jangan rusak badanmu dengan narkoba.

Di pelajaran sebelumnya, kamu sudah memilih dua negara ASEAN dan membandingkannya dalam hal kehidupan sosial budaya.

Untuk melengkapi informasimu tentang kedua negara tersebut, bandingkanlah negara-negara tersebut dari kehidupan ekonominya. Tulislah hasilnya dalam bentuk diagram Venn berikut.



Sampaikan hasilnya pada teman sebelahmu dan gurumu.

Ekonomi masing-masing negara anggota ASEAN diharapkan dapat bergerak lebih cepat. Hal ini dimungkinkan melalui berbagai kerjasama yang positif antarnegara dalam wadah organisasi ASEAN.