



¿Cómo se mide el tiempo?

Para saber qué hora es actualmente usamos el celular, pero en esta guía vamos a hablar del reloj, su origen y cómo se lee el reloj análogo o de agujas.



El reloj es una máquina construida para medir el tiempo. Cada vez esta máquina ha sido modernizada para hacerlo de manera más exacta.

<https://youtu.be/pBSpQ-OM8kU>




Selecciona el nombre de cada reloj.



¿Puedes inventar o recrear una manera para medir el tiempo?



Dibuja un reloj

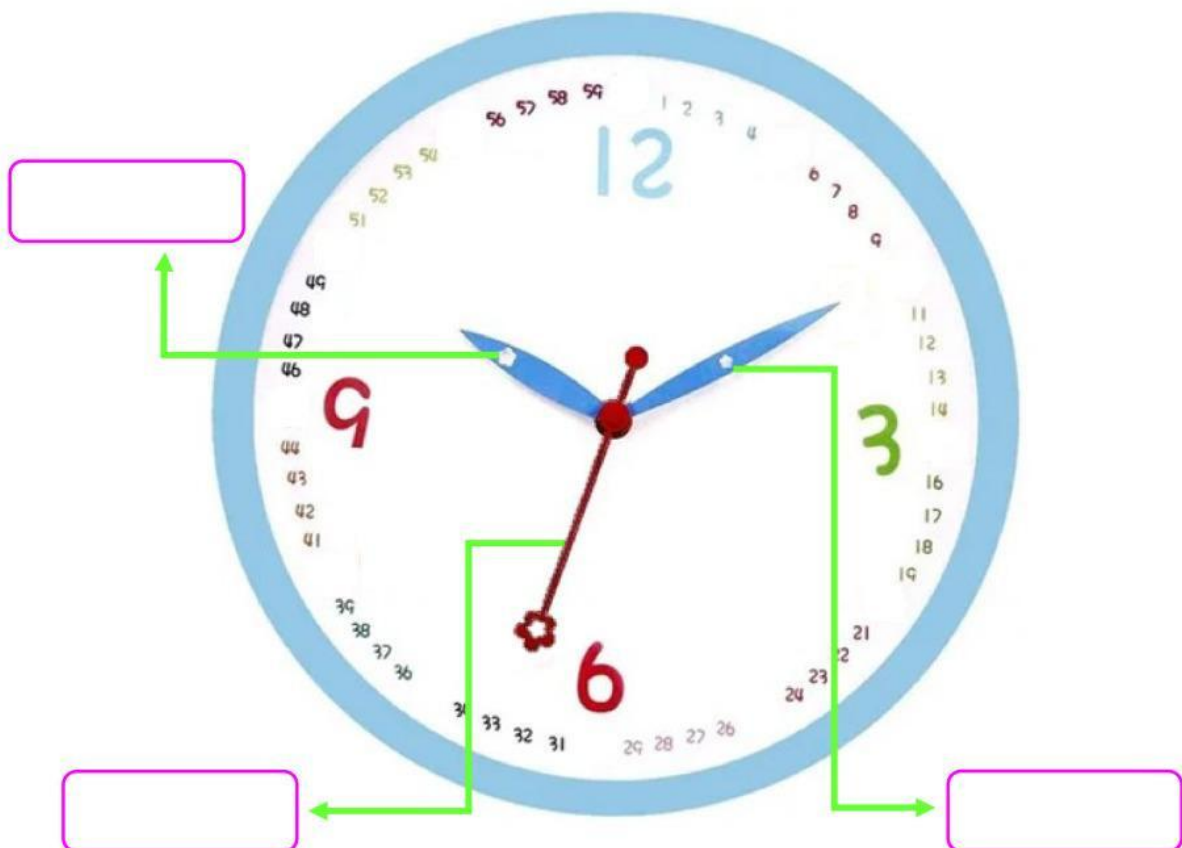


Arrastra a su lugar los nombres de cada manecilla del reloj y escribe los números faltantes.

Horario

Minutero

Segundero





INSTITUCIÓN EDUCATIVA GENERAL SANTANDER
SEDE MI TIERNA EDAD
Grado segundo
MATEMÁTICAS



Practica la lectura del reloj y escribe debajo la hora correspondiente.





INSTITUCIÓN EDUCATIVA GENERAL SANTANDER
SEDE MI TIERNA EDAD
Grado segundo
MATEMÁTICAS



Selecciona la hora que marca el reloj análogo en el reloj digital.



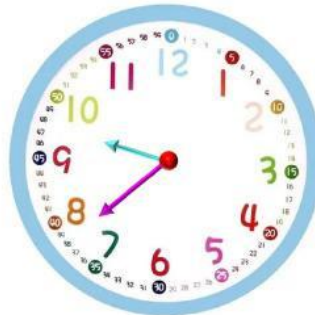
07:33
08:03
09:00



01:30
02:38
01:02



11:40
12:10
11:55



08:02
09:38
08:30



01:30
01:06
12:00



09:00
09:05
08:50



01:45
01:55
12:46



05:05
06:30
06:10



03:30
02:15
02:30

