

# LEMBAR KERJA PESERTA DIDIK



**Kelas IV**

**Tema : Animal and Plant**

**Nama : \_\_\_\_\_**

**Kelas : \_\_\_\_\_**

**Tanggal Pemberian**

**Penugasan : 27 Juli 2021**

**Batas Pengumpulan**


**Penugasan : 3 Agustus 2021**



**Materi Pokok :  
Mengelompokkan Data**



Sebelum teman-teman sholih dan sholihah mengerjakan tantangan, silakan menonton video penjelasan materi pembelajaran hari ini!
















































A. Lengkapi kalimat berikut dengan menuliskan jawaban yang tepat!

## Asiknya Belajar Mengelompokkan Data

Teman-teman kelas 4 sedang belajar Matematika bersama Bu Fitri. Materi yang sedang dipelajari adalah \_\_\_\_\_. Sebelum itu, teman-teman harus mengetahui pengertian dari data. Data adalah \_\_\_\_\_. Untuk memperoleh data dapat dilakukan dengan tiga cara yaitu \_\_\_\_\_, \_\_\_\_\_, \_\_\_\_\_. Data yang diperoleh, selanjutnya diubah ke dalam bentuk tabel.

B. Yuk teman-teman selesaikan tantangan berikut dengan cara mengelompokkan data serta disajikan dalam bentuk tabel data.

1. Ibu guru meminta siswa kelas 4 untuk menyebutkan masing-masing 1 buah kesukaan siswa seperti pada data berikut ini!

								
Rafa	Kirom	Khansa	Aidan	Omar	Rafi	Qory	Rais	Iffah
								
Hana	Aqila	Rangga	Rakha	Faza	Aurell	Ghazi	Gavin	Qisya
								
Keysha	Damar	Kaleela	Nawa	Ulan	Vico	Azzam	Fatih	Tahira
								
Rara	Qaireen	Nindy	Indah	Khey	Syafira	Azumi	Shaqi	Khaliph
								
Salsa	Zahran	Syifa	Biya	Yumna	Nadyn	Chila	Putri	Salsa

Yuk teman-teman ubah data-data tersebut ke dalam bentuk tabel di bawah ini!

**Data Buah Kesukaan Siswa Kelas 4  
SD Islam De Green Camp**

NO	Variasi Buah	Jumlah
1.	Apel	
2.	Jeruk	
3.	Mangga	
4.	Pisang	
5.	Jambu	

Selanjutnya berilah tanda centang pada pernyataan di bawah ini jika sesuai dengan tabel data di atas!

Buah yang menjadi favorit siswa kelas 4 adalah buah Jeruk.

☐

Jumlah seluruh siswa kelas 4 yang menyukai buah sebanyak 45 orang.

☐

Siswa yang menyukai buah Jambu sebanyak 5 orang.

☐

Siswa yang tidak menyukai buah Apel sebanyak 5 orang.

☐

Siswa yang menyukai buah Mangga dan buah Jeruk sebanyak 22 orang.

☐



2. Perhatikan informasi jumlah siswa di SD Islam De Green Camp berikut ini!

Diketahui jumlah seluruh siswa yang bersekolah di SD Islam De Green Camp adalah 364 siswa yang terdiri dari kelas 1 hingga kelas 6.

- Siswa kelas 1 dan kelas 5 berjumlah sama yaitu 55 siswa
- Siswa kelas 2 berjumlah 57 siswa
- Siswa kelas 4 berjumlah 88 siswa
- Siswa kelas 6 berjumlah 53 siswa

Berdasarkan informasi di atas, berapa jumlah siswa dari kelas 3 ?

Ubahlah informasi tersebut ke dalam bentuk tabel dengan cara memindahkan jawaban pada kotak yang tersedia!

Kelas	Jumlah Siswa

SATU

58 SISWA

88 SISWA

LIMA

55 SISWA

EMPAT

55 SISWA

53 SISWA

TIGA

ENAM

57 SISWA

DUA

56 SISWA

3. Berdasarkan data tabel yang telah teman-teman isi di halaman sebelumnya, jawablah pertanyaan berikut dengan tepat!

a. Kelas berapa yang mempunyai jumlah siswa yang sama ?

b. Berapa jumlah seluruh siswa yang bersekolah di SD Islam De Green Camp ?

c. Kelas berapakah yang mempunyai jumlah siswa paling sedikit ?

d. Berapa jumlah siswa kelas 5 dan 6 jika digabungkan ?

e. Kelas berapakah yang mempunyai jumlah siswa terbanyak ?

Alhamdulillah teman-teman sudah menyelesaikan tantangan hari ini.  
Tuliskan bagaimana perasaanmu setelah menyelesaikan tantangan.

---

---

