


# FICHAS DE CONTROL DE APRENDIZAJE DE MATEMÁTICAS

(24 de abril de 2020)

## 1. ¿Cuánto dinero hay?



Hay  euros y  céntimos.



Hay  euros y  céntimos.

## 2. Escribe cómo se leen los siguientes números.

• 527 ►

• 768 ►

• 970 ►

## 3. Escribe el número anterior y el posterior.

◀ 199 ▶

◀ 600 ▶

◀ 749 ▶

◀ 970 ▶

## 4. Calcula.

$$\begin{array}{r} 47 \\ 30 \\ + 59 \\ \hline \square\square \end{array}$$

$$\begin{array}{r} 788 \\ + 130 \\ \hline \square\square\square \end{array}$$

$$\begin{array}{r} 92 \\ - 34 \\ \hline \square\square \end{array}$$

$$\begin{array}{r} 79 \\ - 56 \\ \hline \square\square \end{array}$$

$$\begin{array}{r} 91 \\ - 45 \\ \hline \square\square \end{array}$$

## 5. Realiza las siguientes multiplicaciones.

$$\begin{array}{r} 91 \\ \times 5 \\ \hline \square\square \end{array}$$

$$\begin{array}{r} 80 \\ \times 3 \\ \hline \square\square \end{array}$$

$$\begin{array}{r} 71 \\ \times 2 \\ \hline \square\square \end{array}$$

$$\begin{array}{r} 40 \\ \times 4 \\ \hline \square\square \end{array}$$

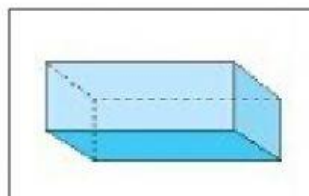
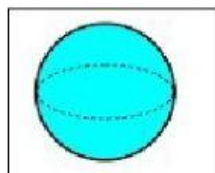
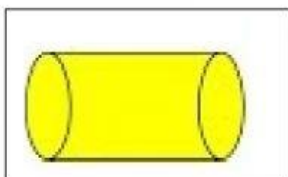
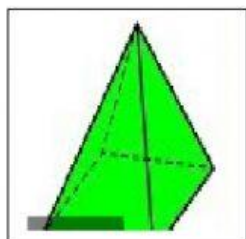
$$\begin{array}{r} 40 \\ \times 6 \\ \hline \square\square \end{array}$$

6. Completa.

• 9 m y 56 cm =  cm +  cm =  cm

• 8 m y 7 cm =  cm +  cm =  cm

7. Escribe el nombre de los siguientes cuerpos geométricos.



8. Resuelve el problema.

Carmen ha comprado una botella de leche a   
y una caja de cereales a  ¿Cuánto cuestan  
los cereales más que la leche?

Datos

►  € =  céntimos

€ =  céntimos

Solución

►

Operación