



KELAS 2
TEMA 1
SUBTEMA 2
PEMBELAJARAN 4

NAMA :



Simaklah video berikut untuk mempelajari materi hari ini :



Pilihlah jawaban yang tepat !

1. Bilangan yang lebih kecil dari 309 adalah

a. 298

b. 311

c. 385

2. Urutan bilangan yang benar dari yang terkecil ke yang terbesar adalah

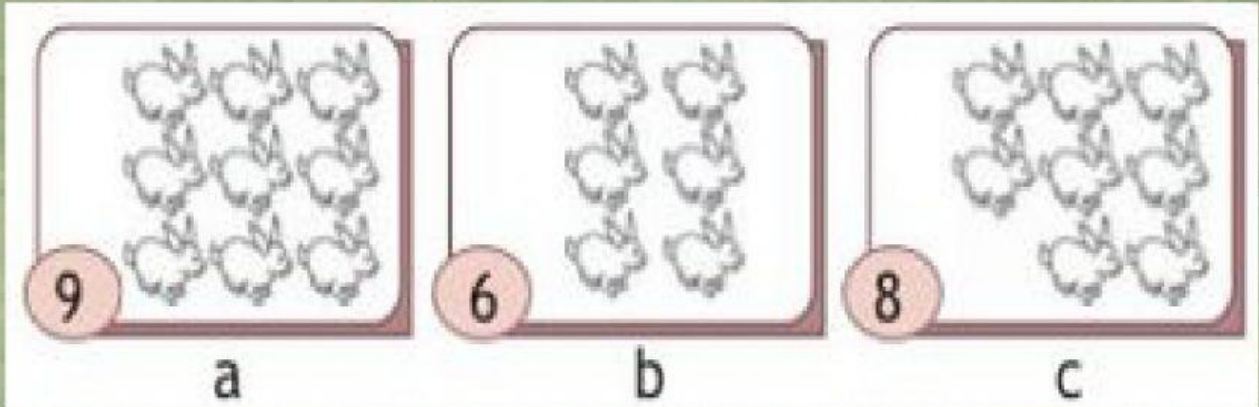
a. 107, 111, 109, 113

b. 107, 109, 111, 113

c. 113, 111, 109, 107

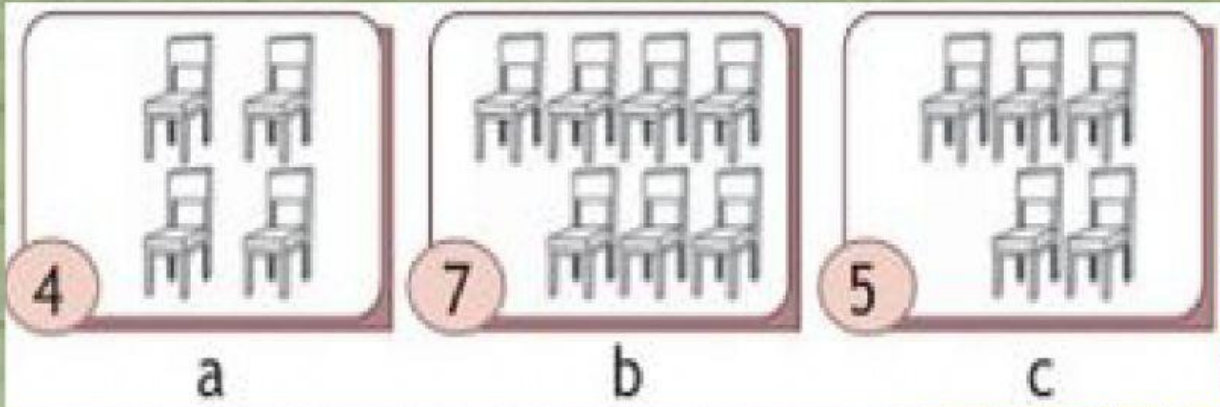
Isilah dengan jawaban yang benar !

1.



Urutkan banda dari yang paling banyak

2.




Urutkan banda dari yang paling sedikit....

Menghubungkan dengan garis !



8



7



9



ditulis ...



.....

.....



ditulis ...

.....

.....

.....


.....

.....

.....



Letakkan jumlah berikut pada tempat yang sesuai !




Sendok



Botol



Cangkir



Garpu

--	--	--	--

24

28

20

30