



MULTIPLICANDO Y COMPROBANDO CON LA PRUEBA DEL 9

Realiza las siguientes multiplicaciones y comprueba con la prueba del 9


				7	6	0	9
					x	4	6
<hr/>							




				8	9	7	2
					x	5	9
<hr/>							



			1	2	6	0	9
				x	4	8	1
<hr/>							



				7	6	0	9
				x	1	9	2
<hr/>							



RESOLVIENDO PROBLEMAS DE MULTIPLICACIÓN

1. El dueño de un comercial compra 24 cajas de abanicos, si en cada caja vienen 72 abanicos, ¿ Cuántos abanicos en total tiene con la compra de las 24 cajas

DATOS	RAZONAMIENTO	OPERACIÓN																									
		<table border="1"><tr><td></td><td></td><td></td><td></td><td></td></tr><tr><td></td><td></td><td></td><td></td><td></td></tr><tr><td></td><td></td><td></td><td></td><td></td></tr><tr><td></td><td></td><td></td><td></td><td></td></tr><tr><td></td><td></td><td></td><td></td><td></td></tr></table>																									
RESPUESTA: Tiene en total																											

2. Para incrementar el espacio de lectura, en nuestra escuela se compraron 345 libros a un precio por unidad de us\$ 12,00 cada libro. ¿Cuánto gastó la escuela en la implementación del espacio de lectura?

DATOS	RAZONAMIENTO	OPERACIÓN																									
		<table border="1"><tr><td></td><td></td><td></td><td></td><td></td></tr><tr><td></td><td></td><td></td><td></td><td></td></tr><tr><td></td><td></td><td></td><td></td><td></td></tr><tr><td></td><td></td><td></td><td></td><td></td></tr><tr><td></td><td></td><td></td><td></td><td></td></tr></table>																									
RESPUESTA: La escuela gastó para la implementación del espacio de lectura.																											