

**BASE LINE TEST - 2021**  
**TELUGU MEDIUM**

Level-II

(Max. Marks : 40)

Time : 60 Min.

**INSTRUCTIONS :**

1. Answer all the questions.
2. Marks will not be awarded in case of over writing and rewriting
3. Each question carry 1 mark.

**TELUGU**

1. చిత్రం బదులుగా పదం రాయండి.

1. కమల  మొక్క నాటింది. కమల \_\_\_\_\_ మొక్క నాటింది.

2. రవి  వెలిగించాడు రవి \_\_\_\_\_ వెలిగించాడు

3.  పాలు మధురము \_\_\_\_\_ పాలు మధురము

2. ఈ క్రింది పదాల్లో పండుగల పేర్లు ఉన్నాయి. వాటిని గుర్తించి రాయండి.

చిలుక	రంజాన్	క్రిస్మస్	కడప
దీపావళి	ఊయల	రాము	విజయదశమి

1. \_\_\_\_\_ 2. \_\_\_\_\_ 3. \_\_\_\_\_ 4. \_\_\_\_\_

3. ఈ క్రింది పదాలకు బహువచనాలు రాయండి.

1. చెట్టు = \_\_\_\_\_ 2. పుస్తకం = \_\_\_\_\_

4. బట్టలు కొలవాలంటే \_\_\_\_\_ కావాలి

ఎ) దారం                      బి) తేవు                      సి) మూర

5. పేర్లను తెలియజేసే దానిని \_\_\_\_\_ అంటారు




ఎ) క్రియ                      బి) విశేషణం                      సి) నామవాచకం

6. కాకి ఏ రంగులు ఉంటుంది

ఎ) తెలుపు                      బి) నలుపు                      సి) ఎరుపు

7. క్రింది పదాలకు ఒత్తులు చేర్చి రాయండి ( ృ, ృ, ృ )  
 1) అమ = \_\_\_\_\_ 2) నిచెన = \_\_\_\_\_ 3) పయానం = \_\_\_\_\_
8. పట్టిక ఆధారంగా మూడు జంతువుల పేర్లు రాయండి.




వ	ను	గు	సిం
పు	లి	ర్రం	హం
గా	డి	ద	కో
వు	ఆ	తి	ట

- 1) \_\_\_\_\_ 2) \_\_\_\_\_ 3) \_\_\_\_\_
9. టొమ్మలు చూసి వాటి పేర్లు రాయండి.
- 


- 1) \_\_\_\_\_ 2) \_\_\_\_\_ 3) \_\_\_\_\_
10. లత పొటలు బాగా పాడుతుంది. దీనిలో విశేషణం క్రింద గీత గీయండి.

## ENGLISH

1. Your name \_\_\_\_\_
2. Your class \_\_\_\_\_
3. Fill in the blanks with suitable words

apple fish house

- 1) The \_\_\_\_\_ is sweet 
- 2)  I live in a \_\_\_\_\_
- 3) A \_\_\_\_\_ can swim 
4. Match the pictures with the words

- |   |       |        |
|---|-------|--------|
|  | [   ] | fish   |
|  | [   ] | ant    |
|  | [   ] | banana |
|  | [   ] | pencil |
|  | [   ] | spoon  |

5. Write the words in correct columns

Car Raju Zoo Rani Book School

Person	Place	thing

6. Write the plural form / add 's' or 'es' and write the words

Lion \_\_\_\_\_ train \_\_\_\_\_

box \_\_\_\_\_ leg \_\_\_\_\_

7. Hold 'ing' and write the words

go \_\_\_\_\_ see \_\_\_\_\_ walk \_\_\_\_\_ cook \_\_\_\_\_

8. Fill in the blanks with is, an, are

1. Tina \_\_\_\_\_ at my home

2. There \_\_\_\_\_ my new books

3. I \_\_\_\_\_ going to school

9. Read and write

I am a hen

I live in a coop

I am covered with feathers

I eat worms and aceds



1) I am a \_\_\_\_\_

2) I live in a \_\_\_\_\_

3) I am covered with \_\_\_\_\_

4) I eat \_\_\_\_\_ and \_\_\_\_\_

10. Write the missing alphabets

A		C			F	G		I	
K				O	P		R		T
U		W	X						

### MATHEMATICS

1. ఐదు వందల ఏడు ను సంఖ్యా రూపంలో రాయండి [ ]

a) 57                      b) 507                      c) 570                      d) 5007

2. 3597లో 5 యొక్క స్థాన విలువ ఎంత? [ ]

a) 50                      b) 5000                      c) 500                      d) 5

3.  $59+67=$  \_\_\_\_\_ [ ]

a) 159                      b) 126                      c) 136                      d) 146

4. ఒక స్వాతంత్ర్య దినోత్సవ కవాతులో 273 బాలురు పాల్గొన్నారు. బాలురు సంఖ్యకన్నా 100 మంది బాలికలు అదనంగా పాల్గొన్నా మొత్తం ఎంతమంది బాలబాలికలు ఆ కవాతులో పాల్గొన్నారు? [ ]
- a) 646                      b) 747                      c) 464                      d) 373
5.  $659 - 320 = \underline{\hspace{2cm}}$  [ ]
- a) 325                      b) 339                      c) 349                      d) 330
6. ధీరజ్ తన పుట్టినరోజు సందర్భముగా 388 చాక్లెట్స్ పాఠశాలకు తీసుకువెళ్ళాడు. దానిలో 289 చాక్లెట్స్ తన స్నేహితులకు పంచినా ఇంకా అతని వద్ద ఎన్ని చాక్లెట్స్ మిగిలి ఉన్నాయి [ ]
- a) 89                      b) 98                      c) 99                      d) 88
7.  $36 \times 15 = \underline{\hspace{2cm}}$  [ ]
- a) 3254                      b) 540                      c) 450                      d) 560
8. 20 రోజులకు ఎన్ని గంటలు? [ ]
- a) 220                      b) 440                      c) 240                      d) 480
9. సమానంగా పంచడాన్ని ఏమంటారు? [ ]
- a) తీసివేత                      b) గుణకారం                      c) భాగాహారం                      d) కూడిక
10. కింది వానిలో సత్యవాఖ్యం ఏది? [ ]
- a) విభజ్యం '0' అయినా భాగఫలం కూడా 0 అవుతుంది.
- b) శేషం ఎల్లప్పుడూ విభజకం కన్నా చిన్నది
- c) ఒక భాగాహార సమస్యలో శేషం '0' అయినా , విభజ్యం విలువ శేషం మరియు భాగఫలాల లబ్ధానికి సమానం
- d) పై అన్నియూ

**E.V.S.**

**Choose the correct answer**

1. ఈ క్రింది వాటిలో కూరగాయలను గుర్తించండి? [ ]
- a) క్యారట్, టమాటా                      b) యాపిల్, మామిడికాయ                      c) బియ్యం, వేరుశనగపప్పు
2. గింజలను మనము దేనికి ఉపయోగిస్తాము. (ఉదా:కందులు, పెసలు) [ ]
- a) వంట నూనె                      b) వంటకి                      c) ఎరువు

3. ఈ క్రింది వానిలో జంతువుల నుండి లభించే ఆహారపదార్థాలను ఎంచుకోండి. [ ]  
 a) ఆలివ్, మినపప్పు      b) నువ్వులు, ఆవాలు      c) మాంసం, పాలు మరియు నెయ్యి
4. నీరు దొరికే సహజమైన వనరులు ఏవో సరిగా గుర్తించండి [ ]  
 a) ట్యాప్ వాటర్, బావి      b) సముద్రాలు, నదులు, సరస్సులు  
 c) బోరుబావి, ఆనకట్ట, కాలువ
5. సరియైన జవాబులు రాయండి. కింద ఇవ్వబడిన స్థలంలో రాయండి.  
 a) రాత్రి భోజనం      b) మధ్యాహ్న భోజనం, చిరుతిళ్ళు      c) అల్పాహారం



6. అరుణ్ తరుచుగా జబ్బున పడుతూ ఉంటాడు. (అతను ఎలాంటి ఆహారం తీసుకోవాలి? ఆహార పదార్థాల బొమ్మ క్రింది టీక్ మార్క్ చేయండి.



7. మనం ఉదయం తీసుకునే ఆహారాన్ని \_\_\_\_\_ అంటాము [ ]  
 a) మధ్యాహ్న భోజనం      b) అల్పాహారం      c) రాత్రి భోజనం
8. మొక్కల నుండి ఆహారం ఏది? సరియైన సమాధానం గుర్తించండి [ ]  
 a) గ్రుడ్లు      b) మాంసం      c) క్యారెట్
9. నీటిని శుభ్రపరిచే సాధారణ పద్ధతి \_\_\_\_\_ సరియైన సమాధానం గుర్తించండి [ ]  
 a) వడపోత      b) మరగించుట      c) నిల్వ చేయుట
10. మీరు ఇంట్లో తినే శక్తినిచ్చేటటువంటి ఆహారపదార్థాన్ని గుర్తించండి? [ ]  
 a) కార్బోహైడ్రేట్లు      b) క్యారెట్, బీట్‌రూట్      c) ఐస్‌క్రీం, నూడిల్స్