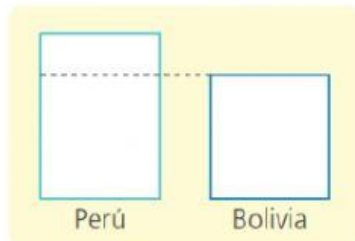


## Cuánto más y cuánto menos



- 1 En el 2016, el Perú recibió 24 052 turistas argentinos. Si a Bolivia hubieran llegado 15 088 turistas argentinos más, tendría tantos turistas argentinos como el Perú. ¿Cuántos turistas argentinos recibió Bolivia?

- Patty trazó el siguiente esquema para resolver el problema. **Completa** con los datos y **resuelve**.



- Bolivia recibió \_\_\_\_\_ turistas argentinos.



- 2 Jimena gana S/ 24 680 al año. Si su esposo ganara S/ 9500 más este año, ganaría lo mismo que Jimena. ¿Cuánto dinero gana el esposo de Jimena?

- a. El esposo de Jimena ¿gana más o menos que ella? **Explica** cómo llegaste a esa conclusión. \_\_\_\_\_

- b. **Elabora** un esquema con los datos y **resuelve** el problema.

- El esposo de Jimena gana S/ \_\_\_\_\_.



- 3 Jaime gana S/ 36 350 al año. Si le dieran S/ 2450 más, ganaría lo mismo que su amigo Mario. ¿Cuánto gana Mario?

- a. ¿Quién gana más, Jaime o su amigo Mario? **Explica**.

- b. **Resuelve** el problema con ayuda de un esquema.

- Mario gana \_\_\_\_\_.



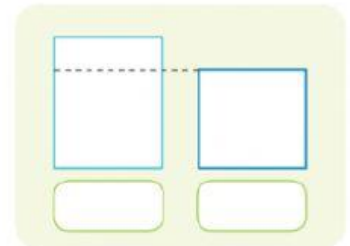
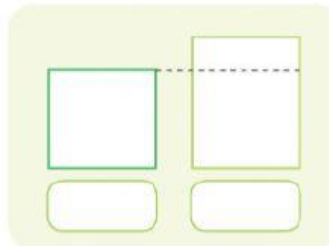
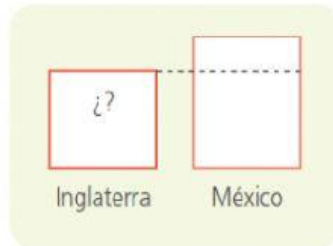
4

José estudia turismo en el Cusco y le entusiasma la noticia del incremento del turismo en el Perú producido por la campaña “Perú, país de tesoros escondidos”. Él elabora una tabla para registrar la cantidad de turistas que llegan. Lean con mucha atención, **resuelvan** y **completen** la tabla.



País de origen	Cantidad de turistas
Brasil	12 957
Ecuador	
EE. UU.	
Chile	100 194
Argentina	24 052
Inglaterra	
México	4641

a. **Representen** en las gráficas la información brindada en el periódico.



b. **Observen** las gráficas y **resuelvan** el problema calculando la cantidad de turistas.

Inglaterra	EE. UU.	Ecuador
<div></div>	<div></div>	<div></div>



- 5 La quinua contiene proteínas, fibras y otras sustancias indispensables para la salud. Los estudiantes de quinto grado buscaron información sobre su producción en el país para una exposición. ¿Cuántas toneladas producen Ayacucho, La Libertad y Cusco, respectivamente?

Departamento	Año 2012
	Producción de quinua (toneladas)
Cusco	
Puno	30 179
Ayacucho	
La Libertad	
Junín	1882
Apurímac	2095

Fuente: Minag-OEEF

- a. Lee con atención la información que muestra el diario *El Sol*.



- b. Comprende y resuelve el problema utilizando los datos de la tabla.

¿Qué necesito hallar?

Necesito hallar \_\_\_\_\_  
\_\_\_\_\_  
\_\_\_\_\_  
\_\_\_\_\_.

Resuelvo.

¿Cómo usaré los datos para resolver el problema?

Completo la tabla y escribo la respuesta.

Ayacucho produce \_\_\_\_\_ toneladas.

La Libertad, \_\_\_\_\_ toneladas.

Cusco, \_\_\_\_\_ toneladas.



- 6 Víctor se dedica a la exportación de café y su ganancia es de S/ 56 490 en un año. Si su vecina Andrea logra aumentar su ganancia en S/ 9320, obtendrá tanto como Víctor. ¿Cuánto gana Andrea?

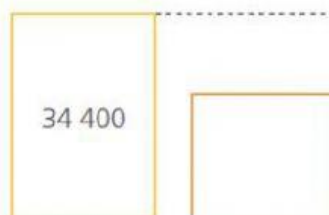


- Encierra los datos del problema.
- Elabora un esquema y resuelve el problema.

- Andrea gana\_\_\_\_\_.



- 7 Crea dos problemas empleando los gráficos que hizo Paco y resuélvelos.



Escribe tu respuesta.



Problema 1

Problema 2

- \_\_\_\_\_
- \_\_\_\_\_

- \_\_\_\_\_
- \_\_\_\_\_



## Resolvemos problemas de cosechas



- 1 Juan, Teresa y Aurora tienen una chacra familiar donde cultivan hortalizas. Observen cómo dialogan. ¿Cuántas cabezas de lechuga cosecharon todos juntos?



a. Respondan.

- ¿Quién cosechó más cabezas de lechuga? ¿Teresa o Juan? \_\_\_\_\_.
- ¿Quién cosechó más cabezas de lechuga? ¿Aurora o Teresa? \_\_\_\_\_.

b. Completen los esquemas y resuelvan con la operación correspondiente.

8543	
Juan	Teresa

- Teresa cosechó \_\_\_\_\_.

Teresa	Aurora

- Aurora cosechó \_\_\_\_\_.

c. Escriban una operación que resuelva la pregunta del problema y efectúenla.

- Juan, Teresa y Aurora han cosechado en total \_\_\_\_\_  
\_\_\_\_\_  
\_\_\_\_\_.




- 2 Cuatro agricultores del departamento de Lambayeque comentan sus cosechas. Lee lo que dicen. Luego, **averigua** cuántos zapallos loche tienen Ana y Sayuri.



a. Responde.

- ¿Quién cosechó más zapallos? ¿Ana o José? \_\_\_\_\_.
- ¿Quién tiene más zapallos? ¿Sayuri o Pedro? \_\_\_\_\_.

b. Completa los esquemas y calcula cuántos zapallos tienen Ana y Sayuri.



c. Responde el problema escribiendo las cantidades en letras.

- Ana tiene \_\_\_\_\_.
- Sayuri tiene \_\_\_\_\_.



- 3 José envió 8915 zapallos loche al mercado mayorista. Su compadre Andrés debe retirar 1045 zapallos loche de su cosecha para enviar la misma cantidad que José. ¿Cuántos zapallos loche cosechó Andrés?

- Andrés cosechó \_\_\_\_\_.