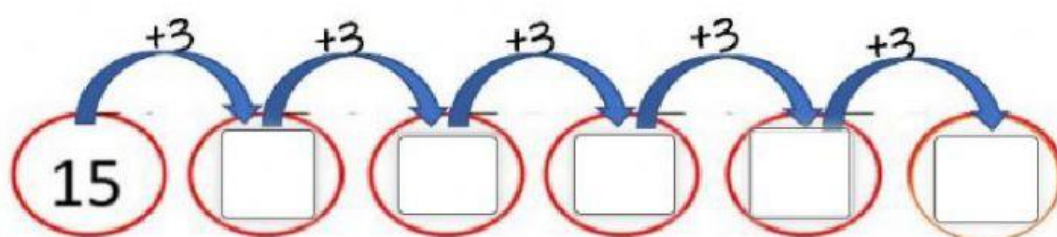
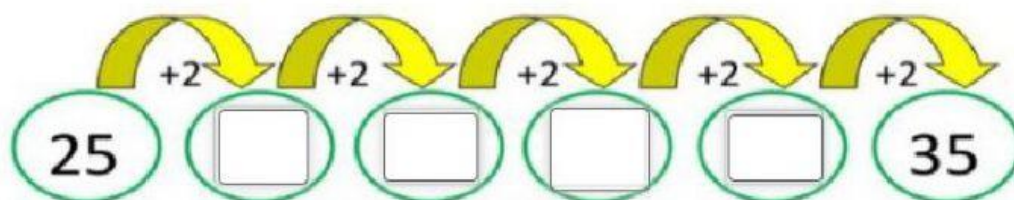


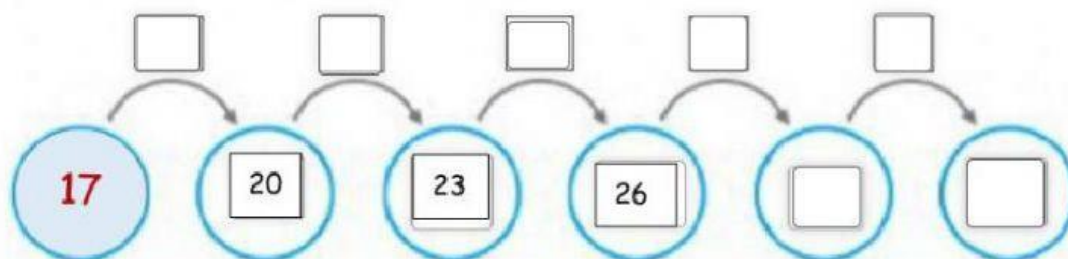
Regla de sucesión

5° año A-B

1.- Completamos series crecientes.



2.- Descubramos el patrón para completar la serie.



❖ Observa el patrón y completa las sucesiones decrecientes.

1) Patrón : -3

51	48	<input type="text"/>	<input type="text"/>
----	----	----------------------	----------------------

2) Patrón: -10

93	83	<input type="text"/>	<input type="text"/>
----	----	----------------------	----------------------

