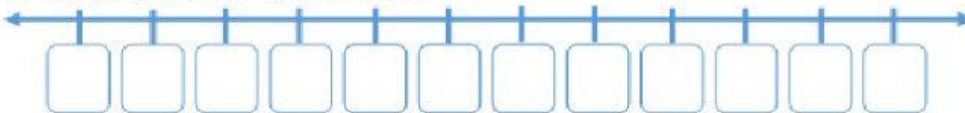




Mengurutkan Bilangan Bulat

Lengkapi garis bilangan nomor 1 - 3

1 

2 

3 

4 Perhatikan beberapa bilangan bulat berikut
-2, 8, 0, -6, 3, 5

Urutan dari yang terbesar

Urutan dari yang terkecil

5 Perhatikan beberapa bilangan bulat berikut
-5, 2, 8, 1, 0, 5

Urutan dari yang terbesar

Urutan dari yang terkecil