



Sistema de Gestión  
de la Calidad

INSTITUTO INTEGRADO FRANCISCO SERRANO MUÑOZ

San Juan Girón

OLIMPIADAS MATEMÁTICAS

PRIMER SEMESTRE

ÁREA: Matemáticas

SEDE: A,B,C,D

SEGUNDO SEMESTRE

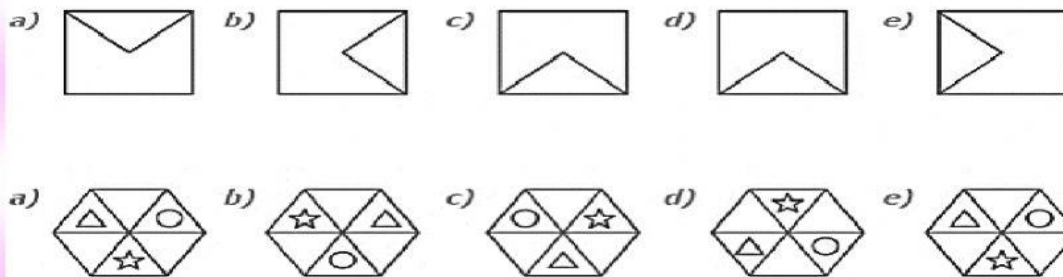
DOCENTES DE PRIMARIA

GRADO: TERCERO

NOMBRE DEL ESTUDIANTE:

JORNADA:

1. Descubre la figura que no pertenece a la serie



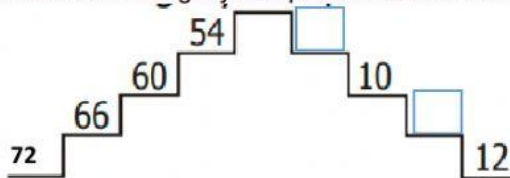
2. Resuelve las siguientes divisiones, completando los casilleros vacíos.

	÷	20	=	6
÷		÷		÷
10	÷		=	2
=		=		=
	÷	4	=	

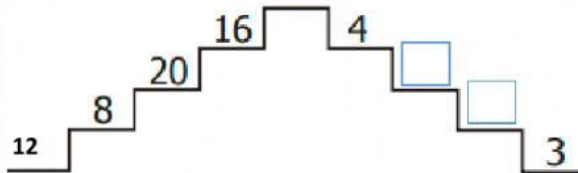
40	÷		=	5
÷		÷		÷
	÷		=	
=		=		=
	÷	4	=	5

	÷	8	=	
÷		÷		÷
16	÷		=	2
=		=		=
	÷	1	=	2

3. Descubre la regla y completa las escaleras.

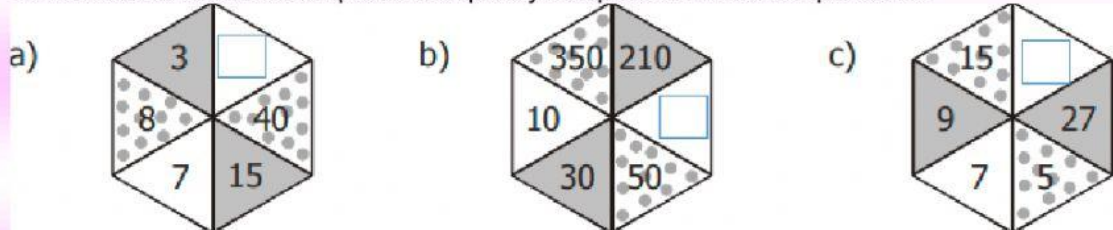


La regla para subir es dividir entre



La regla para subir es dividir entre

4. Descubre el factor con el que se multiplica y completa los números que faltan:



Soluciona las siguientes situaciones

5. Santiago ha recogido 22 limones y su hermano Alfonso 14 más. ¿Cuántos limones recogió alfonso?

Alfonso ha recogido  limones.

6. María tiene 8 años. Su abuela tiene 56 años más que ella. ¿Cuántos años tiene su abuela?

Su abuela tiene  años.

6. En una mañana un león comió 30 Kg de carne y en la tarde 25 Kg más que en la mañana. ¿cuántos kilogramos comió en todo el día?

El león comió  Kg de carne.

