










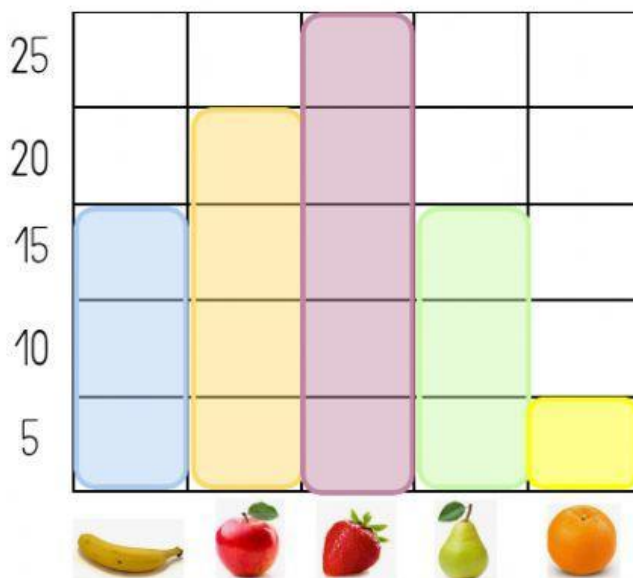
TABLAS DE DATOS

Con las tablas de datos organizamos la información. Resolvemos esta primera tabla. Coloca cada imagen en su lugar



Observa esta tabla y completa:



Escribe la cantidad de fruta:



Ahora contesta:

¿Cuántos plátanos hay?

¿De qué fruta hay más cantidad?

¿Hay más naranjas o peras?

¿De qué frutas hay menos cantidad?

Si traemos las manzanas y plátanos a clase ¿Cuántas frutas tendremos?