

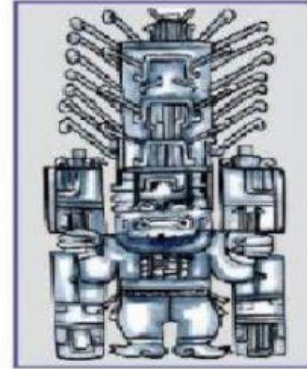
EVALUACION DEL SEGUNDO BIMESTRE - PERSONAL SOCIAL

1.-Relaciona:

Estela Raimondi

Lanzón monolítico

Cabeza clava



2.- Completa con la alternativa correcta:

a.- La cultura Caral es considerada la más antigua de

b.- Se sitúa al norte de

c.- La arqueóloga peruana descubrió la cultura Caral.

3.-Completa con los recuadros:

Textilería

Ica

Medicina

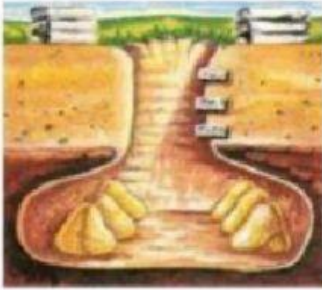
Periodos

- La Cultura Paracas se ubica en el departamento de

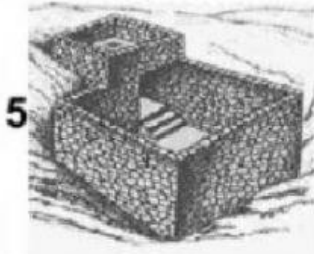
- Se dividió en dos

- Destacaron en la y

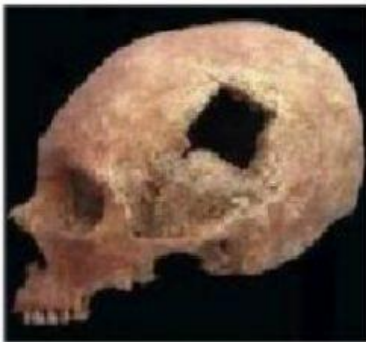
4.-Relaciona:



TREPANACIONES
CRANEANAS



PARACAS CAVERNAS



PARACAS NECROPOLIS

5.- Completa con las alternativas correctas:

1. La cultura Mochica se desarrolló en el departamento de

2. Fue descubierta por

3. Sus principales templos fueron...

6.-Marca la respuesta correcta:

1. ¿Quién estudio las Líneas de Nazca?

a) Max Uhle

b) María Reiche

c) Micaela Bastidas

2. ¿Quién descubrió las Líneas de Nazca?

a) María Reiche

b) Julio C. Tello

c) Toribio Mejía Xesspe


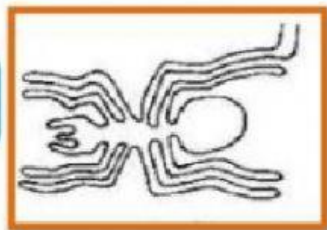
3. Sus tejidos eran finos hechos con ..

a) Lana de camélidos, algodón


b) lana de colores y algodón

c) lana alpaca y pima

7.-Escribe el nombre de cada línea de nazca:



8.-Escribe el nombre de esta escultura y cerámica de la cultura Tiahuanaco }



9.-Escribe el nombre de cada suyo tomando en cuenta el color del recuadro.




1. ¿Quién proclamó la independencia del Perú?

2. ¿Cuándo se proclamó la independencia del Perú?

3. ¿Qué obtiene el Perú con la proclamación?

1. Ordena las banderas de acuerdo a los cambios que sufrieron en la historia.



2. Arma el escudo nacional arrastrando las piezas según corresponde



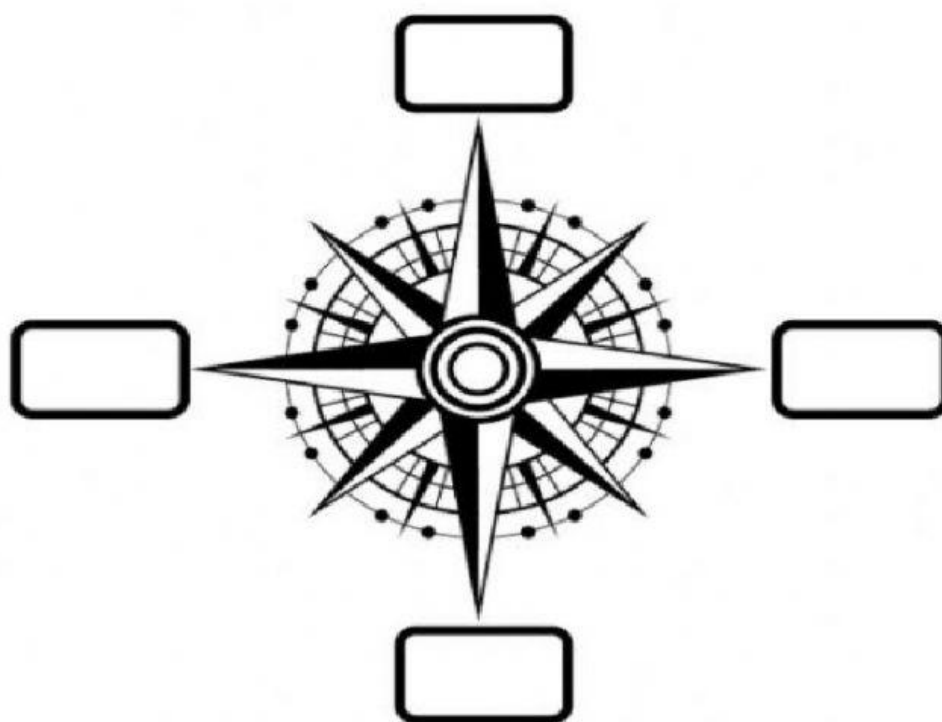
Coloca el nombre de los puntos cardinales donde corresponde:

este

sur

oeste

norte



Las regiones del Perú

Ubica cada región donde corresponda

COSTA

SIERRA

SELVA

MAR PERUANO



1. ¿Quiénes fundaron el imperio Inca?

Manco Cápac

Manco Inca

Mama Ocllo

Mama Cápac

2. Según el mito, ¿Quiénes fueron Manco Cápac y Mama Ocllo?

Hijos del Sol

Hijos del sol y la luna

3. ¿De dónde salieron los hijos del sol?

Río Titicaca

Lago Titicaca

4. ¿Cuál fue la tarea de Manco Cápac y Mama Ocllo?

Construir todo el Perú

Fundar el Imperio Inca

5. ¿En qué cerro se hundió el cetro de oro?

Huanacaure

Machu Picchu

6. ¿Qué enseñó Manco Cápac a los varones?

cultivar

vestirse

Cuidar hogar

tejer

cazar

Construir casas

7. ¿Qué enseñó Mama Ocllo a las mujeres?

cultivar

vestirse

Cuidar hogar

tejer

cazar

construir casas