

Lembar Kerja Peserta Didik

Tema 1

Selamatkan Makhluk Hidup

Subtema 1

Tumbuhan Sahabatku

Pembelajaran 1

Nama :



Kompetensi Dasar dan Indikator

Kompetensi Dasar	Indikator Pencapaian
Bahasa Indonesia 3.1 Menyimpulkan informasi berdasarkan teks laporan hasil pengamatan yang didengar dan dibaca. 4.1 Menyajikan simpulan secara lisan dan tulis dari teks laporan hasil pengamatan atau wawancara yang diperkuat oleh bukti.	3.1.1 Menemukan ide pokok dan informasi penting serta menyajikannya dalam bentuk diagram. 4.1.1 Mengembangkan dengan bahasa sendiri secara rinci menjadi sebuah tulisan.
IPA 3.1 Membandingkan cara perkembangbiakan tumbuhan dan hewan. 4.1 Menyajikan karya tentang perkembangbiakan tumbuhan.	3.1.1 Mengidentifikasi perkembangbiakan generatif melalui gambar yang dibuat dan manfaatnya. 4.1.1 Melaporkan perkembangbiakan generatif melalui tabel dan manfaatnya.
IPS 3.1 Mengidentifikasi karakteristik geografis dan kehidupan sosial budaya, ekonomi, politik di wilayah ASEAN. 4.1 Menyajikan hasil identifikasi Karakteristik geografis dan kehidupan sosial budaya, ekonomi, dan politik di wilayah ASEAN.	3.1.1 Menyebutkan kehidupan sosial budaya dari dua negara ASEAN terkait kondisi geografisnya. 4.1.1 Menulis laporan tentang perbedaan sosial budaya dari dua negara terkait kondisi geografisnya.

Tujuan Pembelajaran

1. Setelah membaca teks tentang perkembangbiakan jagung, siswa mampu menemukan ide pokok dan informasi penting serta menyajikannya dalam bentuk diagram.
2. Setelah mengamati gambar bunga, siswa mampu mengidentifikasi perkembangbiakan generatif dan menyebutkan manfaat dengan benar.
3. Setelah membaca teks tentang ASEAN dan kehidupan sosial budayanya, siswa mampu menyebutkan kehidupan sosial budaya dari dua negara ASEAN terkait kondisi geografisnya dengan benar.

Petunjuk Pembelajaran

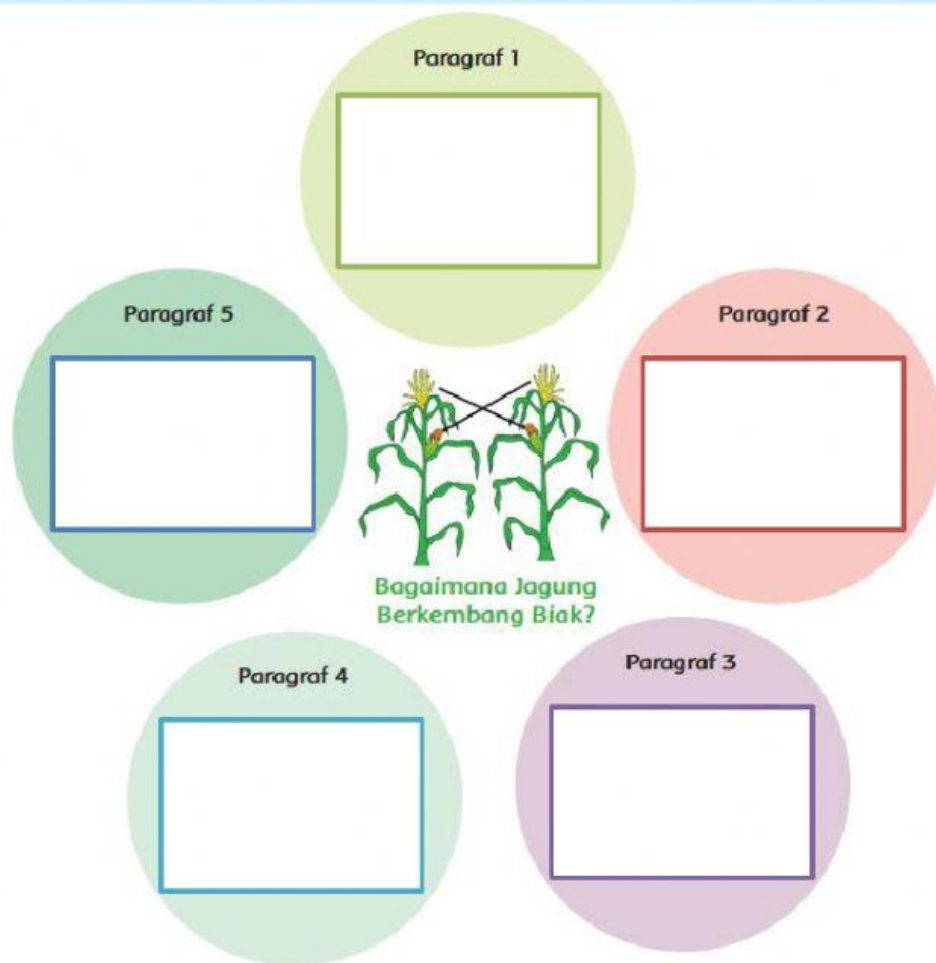
1. Berdoalah sebelum mengerjakan
2. Tulislah namamu pada kolom yang tersedia
3. Simaklah video pembelajaran yang disediakan
4. Kerjakan dengan penuh tanggungjawab soal yang tersedia
5. Sampaikan kepada guru jika mengalami kesulitan
6. Periksa kembali soal yang telah dikerjakan
7. Tekan "FINISH" pada website *LIVE WORKSHEET*

Simaklah
video di
bawah ini !

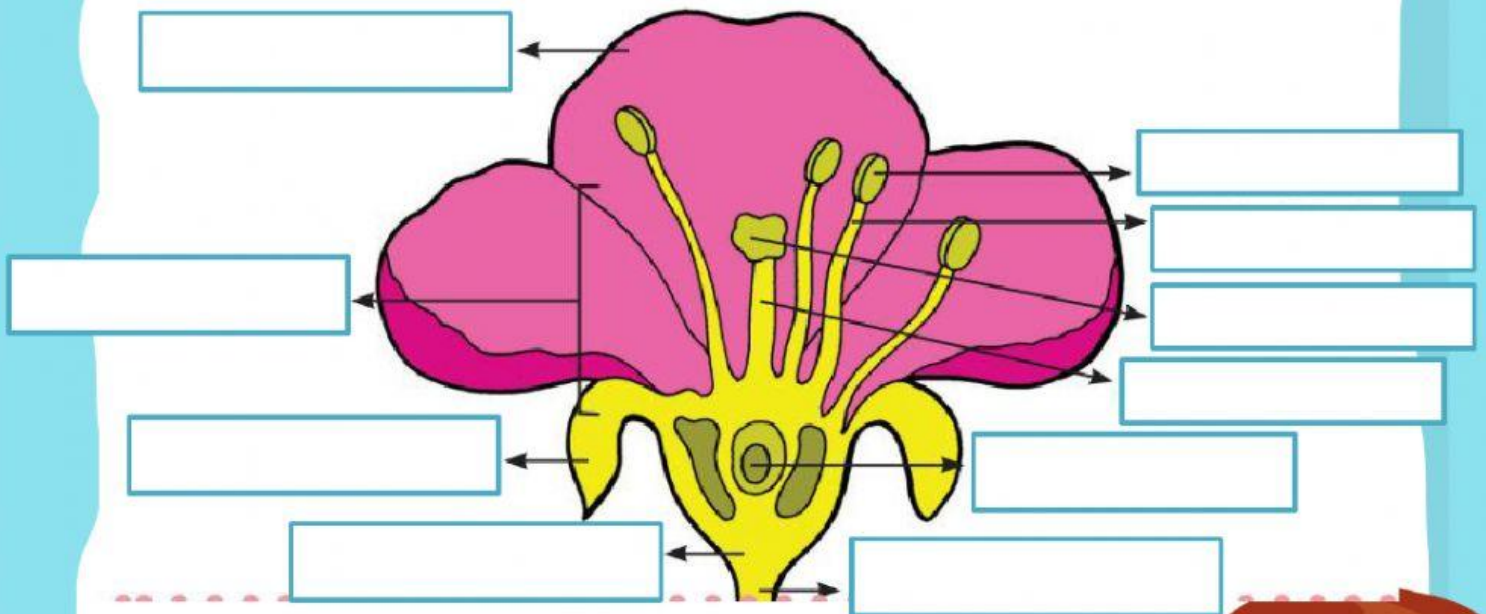


Kerjakan soal-soal di bawah ini dengan tepat !

Setelah membaca teks tentang "Bagaimana Jagung Berkembangbiak?" kemudian tuliskan ide pokok dan informasi penting dengan mengisi diagram berikut ini !



Amati gambar di bawah ini kemudian tentukan bagian-bagian bunganya dengan cara menyeret / *menge drag* jawaban di bawahnya !



kelopak

benang sari

bakal biji

kepala sari

tangkai putik

tangkai bunga

mahkota

dasar bunga









tangkai sari

kepala putik



Kerjakan soal-soal di bawah ini dengan tepat !

1. Organisasi ASEAN didirikan oleh lima negara yaitu
 - a. Indonesia, Malaysia, Singapura, Filipina, Thailand
 - b. Indonesia, Malaysia, Kamboja, Singapura, Filipina
 - c. Indonesia, Kamboja, Singapura, Filipina, Laos
 - d. Indonesia, Malaysia, Singapura, Vietnam, Thailand
2. Dua benua yang mengapit ASEAN adalah
 - a. Asia dan Eropa
 - b. Afrika dan Australia
 - c. Asia dan Australia
 - d. Afrika dan Eropa
3. Mayoritas negara-negara di ASEAN memiliki iklim
 - a. Dingin
 - b. Subtropis
 - c. Tropis
 - d. Sedang
4. Wakil dari Indonesia yang menjadi pendiri ASEAN adalah
 - a. Tun Abdul Razak
 - b. S. Rajaratnam
 - c. Adam Malik
 - d. Narciso Ramos
5. Indonesia adalah salah satu negara tropis yang memiliki dua jenis musim yaitu musim dan musim
 - a. Gugur dan semi
 - b. Kemarau dan dingin
 - c. Kemarau dan hujan
 - d. Gugur dan hujan
6. George Town yang berada di negara Malaysia disebut sebagai kota yang memiliki ragam jenis
 - a. Suku
 - b. Agama
 - c. Bahasa
 - d. Budaya

- 
- 
- 
- 
- 
- 
- 
- 
7. Makanan khas negara Malaysia adalah
- a. Nasi uduk
 - b. Nasi kebuli
 - c. Nasi lemak
 - d. Nasi padang
8. Tiga kaum utama di Malaysia adalah
- a. Melayu, Cina, Spanyol
 - b. Melayu, Cina, India
 - c. Melayu, Spanyol, India
 - d. Cina, India, Spanyol
9. Negara ASEAN yang mendapatkan julukan sebagai negara seribu Pagoda adalah
- a. Kamboja
 - b. Myanmar
 - c. Thailand
 - d. Singapura
10. Pakaian tradisional Myanmar adalah
- a. Kebaya
 - b. Baju kurung
 - c. Ao Dai
 - d. Longyi