


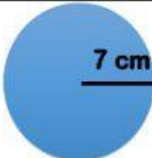



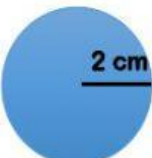
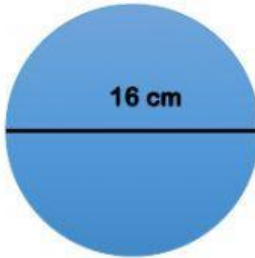

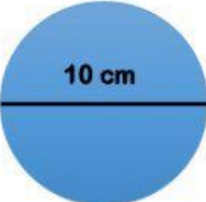



GUÍA DE MATEMÁTICA	
UNIDAD N°: Geometría	Objetivos: <ul style="list-style-type: none"><li>• Perímetro del círculo</li></ul>
Fecha: /2021	Profesor/a: Katherine Solís Prof. Dif: Mariana Huala; Nuris Pinilla
Curso : 7°- 8° año	Nombre:

- Identifica la medida del diámetro y radio en cada caso

				
Diámetro				
Radio				

- Calcula el perímetro de las siguientes circunferencias (Considera que  $\pi = 3,14$ )

		
Perímetro:	Perímetro:	Perímetro:
		
Perímetro:	Perímetro:	Perímetro: