
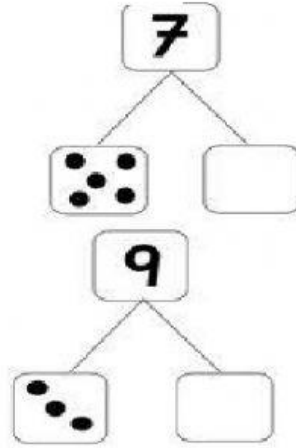
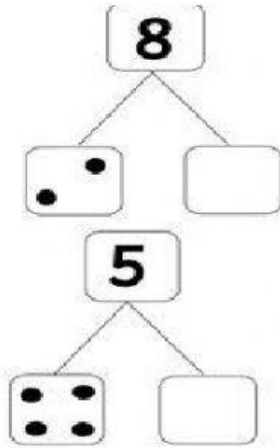
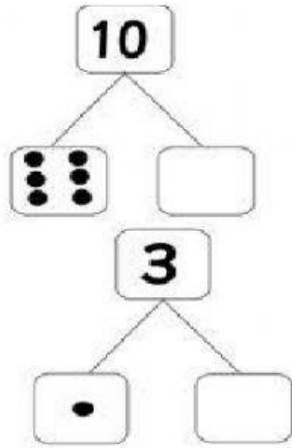



Arrastra para completar las siguientes
descomposiciones de números.



Une con una línea el número y su descomposición.



Compongo y descompongo

1 ¿Qué número se forma?

$400 + 300 + 100 = \square$

$300 + 300 + 200 = \square$

$200 + 400 + 100 = \square$

$200 + 100 + 200 = \square$

$400 + 100 + 400 = \square$



$200 + 500 + 100 = \square$

$500 + 300 + 100 = \square$

$100 + 100 + 100 = \square$

$200 + 200 + 200 = \square$

$300 + 300 + 300 = \square$

2 Un poco más difícil. Escribe el número que se obtiene.

$100 + 300 + 200 + 200 = \square$

$300 + 400 + 100 + 100 = \square$

$200 + 200 + 200 + 200 = \square$


$400 + 300 + 100 + 100 = \square$

$300 + 300 + 100 + 100 = \square$

$100 + 100 + 200 + 200 = \square$

$100 + 100 + 100 + 200 + 300 = \square$

$100 + 100 + 300 + 100 + 200 = \square$



3 Y ahora al revés. Fíjate en el ejemplo y descompón, en centenas completas, estos números:

400 → $100 + 200 + 100$

700 →

500 →

900 →



300 →

600 →

200 →

800 →