

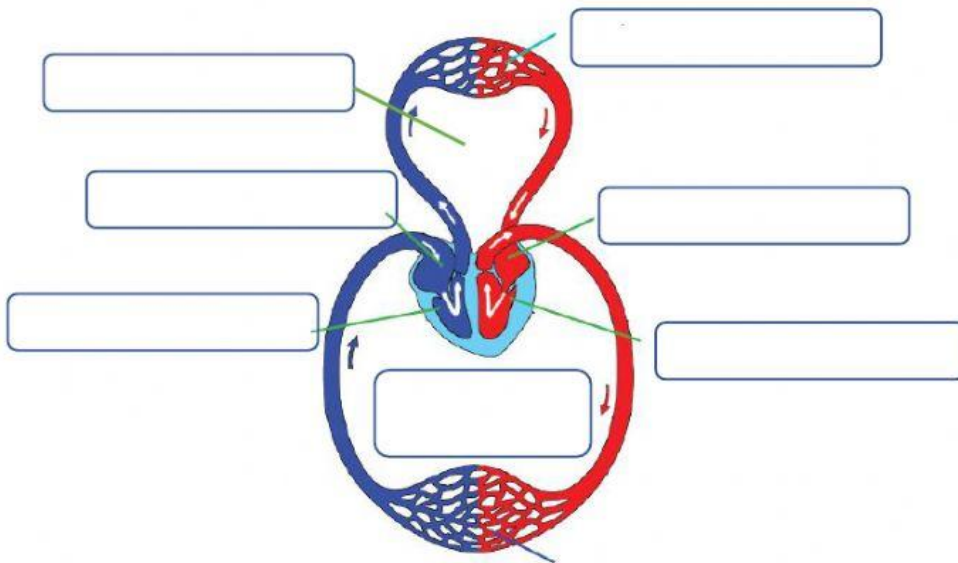
LEMBAR KERJA PESERTA DIDIK

SDN PONDOK RANJI 04
TEMA 4 - SUBTEMA 1 - PB1

NAMA :
KELAS :
HARI/TGL :



Lengkapilah nama-nama bagian organ peredaran darah manusia di bawah ini!



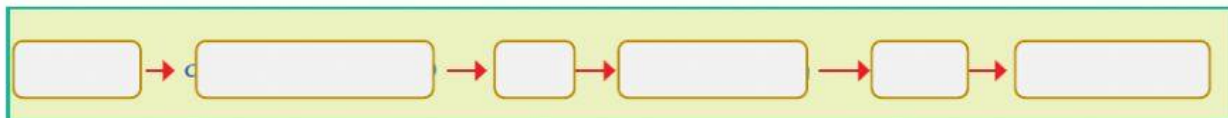
Organ Peredaran darah manusia



Bagan Sistem peredaran darah kecil :



Bagan Sistem peredaran darah besar :



Pasangkan bagian-bagian dari Jantung pada gambar di bawah ini!

Bilik Kanan

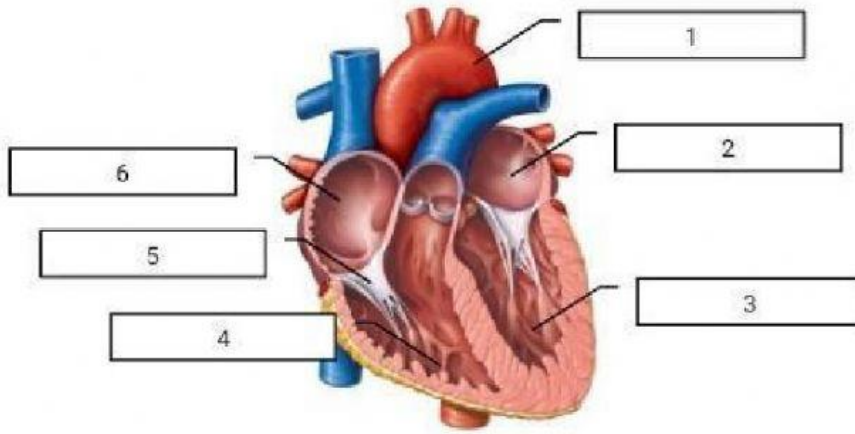
Serambi kiri

Aorta

Bikin kiri

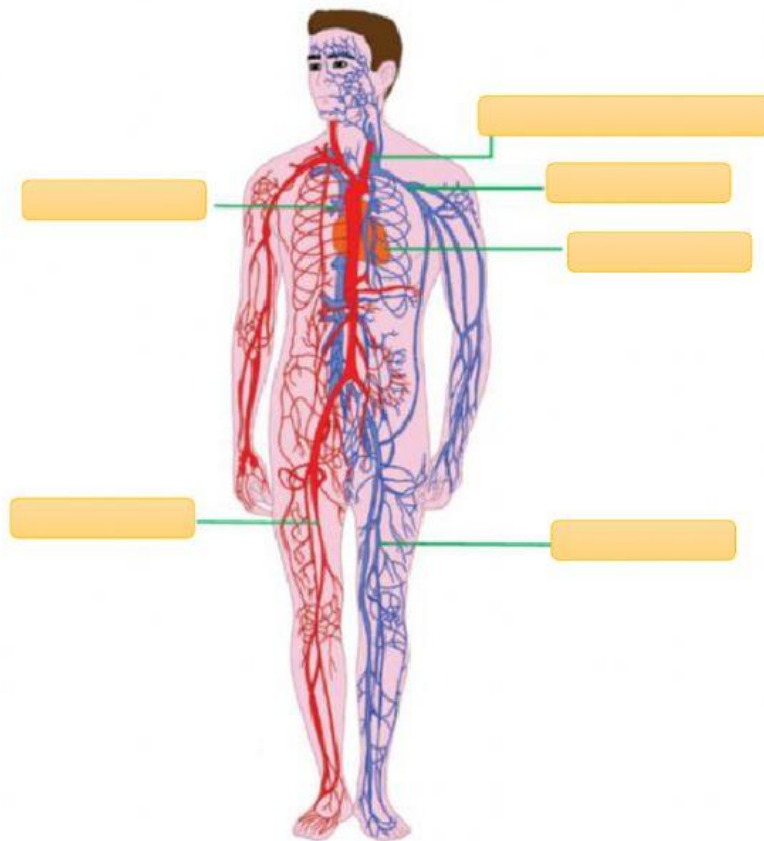
Serambi kanan

Katup Jantung



Pasangkan bagian-bagian pembuluh darah pada gambar di bawah ini!

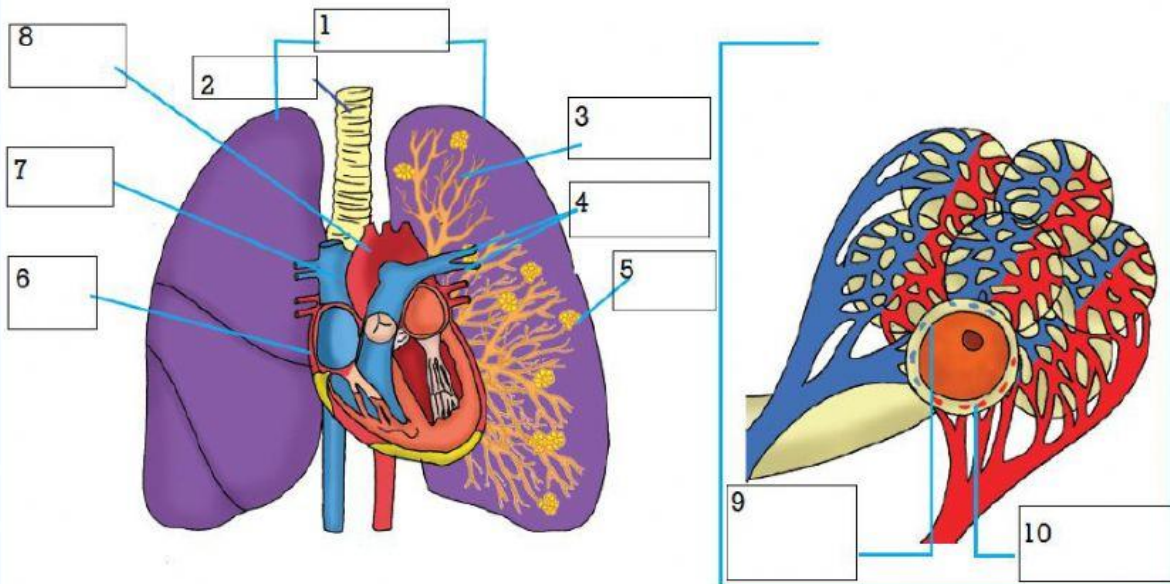
- | | | | | | |
|--------|------|---------|-------------------------|------|--------|
| arteri | vena | jantung | pembuluh darah di leher | vena | arteri |
|--------|------|---------|-------------------------|------|--------|



Pembuluh darah manusia

Pasangkan bagian Paru-paru dan mekanisme pertukaran O₂ dan Co₂ pada gambar di bawah ini!

- | | | | |
|----------------------------------|---------|----------------------------------|------------------|
| Paru-paru | Jantung | Trakea | Bronkiolus |
| Alveolus | Aorta | Vena Paru-paru | Arteri Paru-paru |
| O ₂ masuk ke alveolus | | CO ₂ keluar dari vena | |



Tuliskan perbedaan anatar pembuluh nadi dan pembuluh balik pada tabel di bawah ini!

No	Perbedaan	
	Pembuluh Nadi	Pembuluh balik
1		
2		
3		
4		
5		
6		

Aliran darah menuju jantung

Aliran darah keluar dari jantung

Membawa darah kaya O₂ kecuali arteri pulmonalis

Membawa darah kaya CO₂ kecuali vena pulmonalis

Dinding tipis dan kaku

Dinding tebal, kuat dan elastis

Terletak di dekat permukaan kulit

Terletak di bagian dalam

Denyut jantung tidak terasa

Denyut jantung terasa

Jika terluka darah memancar

Jika terluka darah menetes

Selamat Mengerjakan

