



YAYASAN KANISIUS CABANG YOGYAKARTA
SEKOLAH DASAR KANISIUS DUWET

Alamat: Duwet, Sendangadi, Mlati, Sleman, Yogyakarta 55285

Telepon (0274) 2880062


Email : sdkduwet@gmail.com

Educating Children to create Meaningful Lives


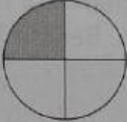

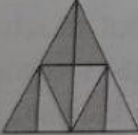


ARTI PECAHAN

NAMA :

NO :

 **Latihan 1**

Tuliskan dalam nilai pecahan dari bagian yang diwarnai!

1		3		5	
	<input type="text"/>		<input type="text"/>		<input type="text"/>
2		4		6	
	<input type="text"/>		<input type="text"/>		<input type="text"/>



Latihan 2

Hubungkan dengan garis nama dan lambang bilangan pecahan yang tepat!

- | | |
|--------------------------|-----------------|
| 1 Delapan persembilan | $\frac{7}{11}$ |
| 2 Tiga perlima belas | $\frac{8}{9}$ |
| 3 Tujuh persebelas | $\frac{3}{15}$ |
| 4 Sebelas pertiga belas | $\frac{10}{17}$ |
| 5 Enam perenam belas | $\frac{11}{13}$ |
| 6 Sepuluh pertujuh belas | $\frac{6}{16}$ |



Latihan 3

Tentukan bentuk pecahan dari soal cerita berikut!

- Desi memotong kue menjadi 7 potong sama besar. Desi memakan 3 potong kue. Berapa bagian kue yang dimakan oleh Desi?
- Sari memotong melon menjadi 12 potong sama besar. Sari memakan 5 potong melon. Berapa bagian melon yang tersisa?
- Anis membeli piza. Anis memotong piza menjadi 7 bagian sama besar. Ia memakan 3 potong. Sisanya, ia bagi kepada kedua temannya sama banyak. Berapa bagian piza yang diterima oleh setiap teman Anis?
- Eka membeli sebuah semangka. Semangka tersebut dipotong menjadi beberapa bagian sama besar. Semua potongan semangka tersebut dimakan oleh Eka dan 3 temannya sama banyak. Jika setiap anak memakan 3 potong, berapa bagian semangka yang dimakan oleh setiap anak?