

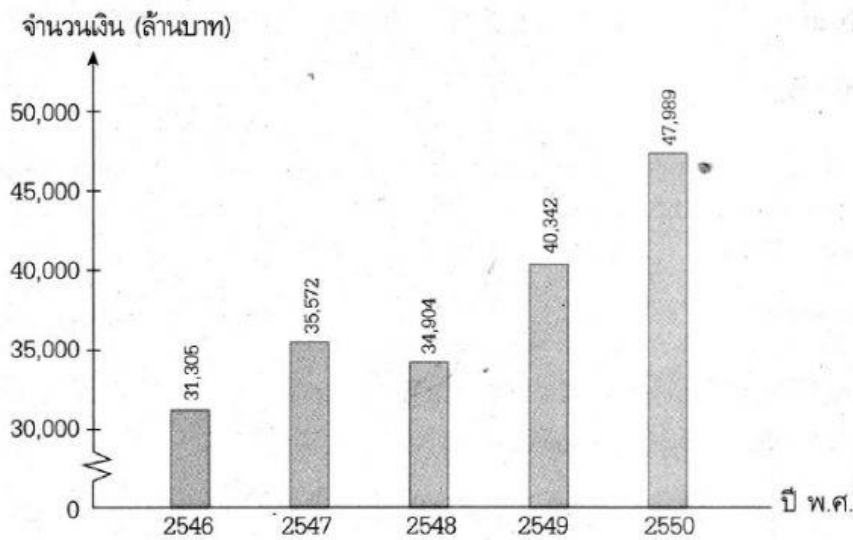
โรงเรียน เอกบูรพา วิเทศศึกษา

กลุ่มสาระการเรียนรู้ คณิตศาสตร์ วิชาคณิตศาสตร์ เรื่อง การอ่านแผนภูมิแท่ง

ชื่อ..... นามสกุล..... ชั้น G. 5 /..... เลขที่.....

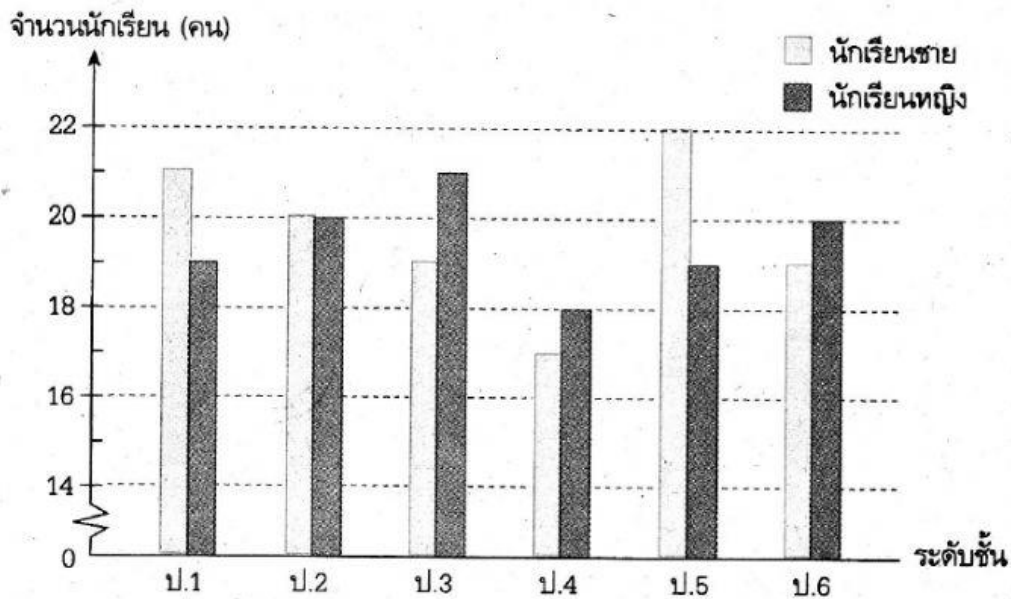
คำชี้แจงให้นักเรียนอ่านแผนภูมิแท่งต่อไปนี้แล้วตอบคำถาม

1. มูลค่าการส่งออกข้าวเปลือก ข้าวหอมมะลิไทย ในปี พ.ศ. 2546 - 2550



- 1) มูลค่าผลผลิตข้าวเปลือกที่เกษตรกรขายได้มากที่สุดคือปี พ.ศ.ใด เป็นเงินเท่าไร
Answer ปี พ.ศ.เป็นเงิน.....ล้านบาท
- 2) มูลค่าผลผลิตข้าวเปลือกที่เกษตรกรขายได้น้อยที่สุดคือปี พ.ศ. ใด เป็นเงินเท่าไร
Answer ปี พ.ศ.เป็นเงิน.....ล้านบาท
- 3) ปี พ.ศ. 2548 มีมูลค่าผลผลิตข้าวเปลือกที่เกษตรกรขายได้เป็นเงินเท่าไร
Answerล้านบาท
- 4) มูลค่าผลผลิตข้าวเปลือกที่เกษตรกรขายได้ต่างกันมากที่สุดคือปี พ.ศ.ใด กับปี พ.ศ. ใด
มีมูลค่าแตกต่างกันเป็นเงินเท่าไร
Answer ปี พ.ศ.กับปี พ.ศ.มีมูลค่าแตกต่างกันเป็นเงิน.....ล้านบาท

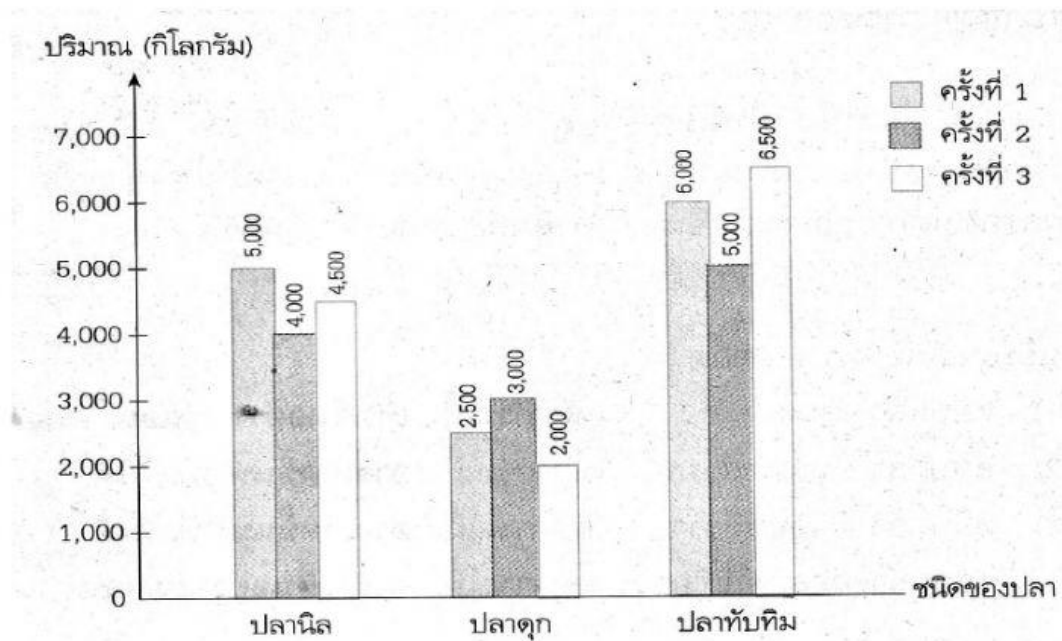
2. จำนวนนักเรียนชายและนักเรียนหญิงของโรงเรียนแห่งหนึ่ง พ.ศ. 2551



- 1) ระดับชั้นประถมศึกษาปีที่ 2 มีนักเรียนทั้งหมดกี่คน
Answerคน
- 2) ระดับชั้นใดมีจำนวนนักเรียนมากที่สุด มีจำนวนกี่คน
Answer ระดับชั้น..... มีนักเรียนทั้งหมด.....คน
- 3) ระดับชั้น ป.6 มีนักเรียนชายต่างกับนักเรียนชายของระดับชั้น ป.4 อยู่กี่คน
Answerคน
- 4) ระดับชั้นใดที่มีนักเรียนชายน้อยที่สุด มีจำนวนกี่คน
Answer ระดับชั้น..... มีนักเรียน.....คน
- 5) ระดับชั้นใดที่มีนักเรียนหญิงมากที่สุด มีจำนวนกี่คน
Answer ระดับชั้น..... มีนักเรียน.....คน



3. ผลผลิตของฟาร์มเลี้ยงปลานำจัดแห่งหนึ่งในการจับปลา 3 ครั้ง



1) ในการจับปลาทั้ง 3 ครั้ง ที่ได้ผลผลิตมากที่สุดคือปลาชนิดใด

Answer

2) ในการจับปลานิลทั้ง 3 ครั้ง ได้ผลผลิตทั้งหมดกี่กิโลกรัม

Answerกิโลกรัม

3) การจับปลาดุกได้ผลผลิตมากที่สุดในครั้งใด

Answer

4) ในการจับปลาครั้งที่ 3 จับปลาดุกได้น้อยกว่าปลานิลกี่กิโลกรัม

Answerกิโลกรัม

5) ในการจับปลาครั้งที่ 2 จับปลาทับทิมได้มากกว่าปลานิลกี่กิโลกรัม

Answerกิโลกรัม

