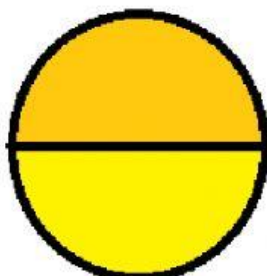




Temukan pecahan pada gambar berikut

Ambil sebagian dan letakkan pada kotak disamping

Gambar 1.



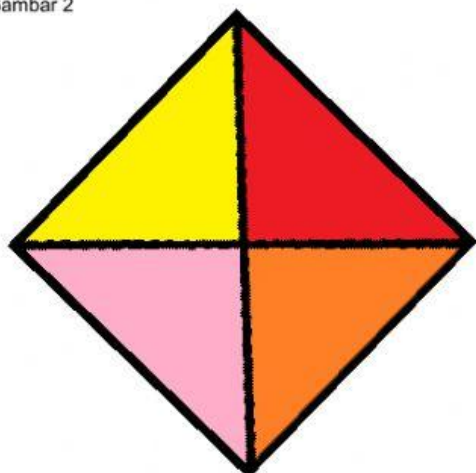
Tekan




Dengarkan

Kemudian tulis apa yang kamu dengar dalam kotak

Gambar 2



Ambil yang berwarna kuning dan letakkan di kotak 1



Tekan ★ Dengarkan

Kemudian tulislah apa yang kamu dengar dalam kotak

Ambil lagi secara bersamaan bagian yang berwarna merah dan oranye, kemudian letakkan di dalam kotak 2




Tekan



Dengarkan

Kemudian tulislah apa yang kamu dengar dalam kotak

Tekan gambar dan dengarkan, kemudian tuliskan apa yang kamu dengar ke dalam kotak



Apakah kamu sudah paham !!!



Coba kamu jawab dengan menulis jawaban pada kotak

nilai dari pecahan gambar di bawah

Jawaban



## Penulisan bentuk pecahan

Tekan tanda bintang untuk mengetahui bentuk penulisannya

$\frac{3}{4}$  atau  $\frac{3}{4}$  ★ tuliskan apa yang kamu dengar dalam kotak

$\frac{2}{5}$  atau  $\frac{2}{5}$  ★ tuliskan apa yang kamu dengar dalam kotak

Coba kamu jawab dengan menulis jawaban pada kotak penulisan pecahan di bawah

$\frac{5}{6}$

$\frac{7}{12}$

## Unsur-unsur pecahan

Coba kamu tekan setiap angka pada pecahan tersebut, dengarkan kemudian isi apa yang kamu dengar pada kotak

7 →

12 →